

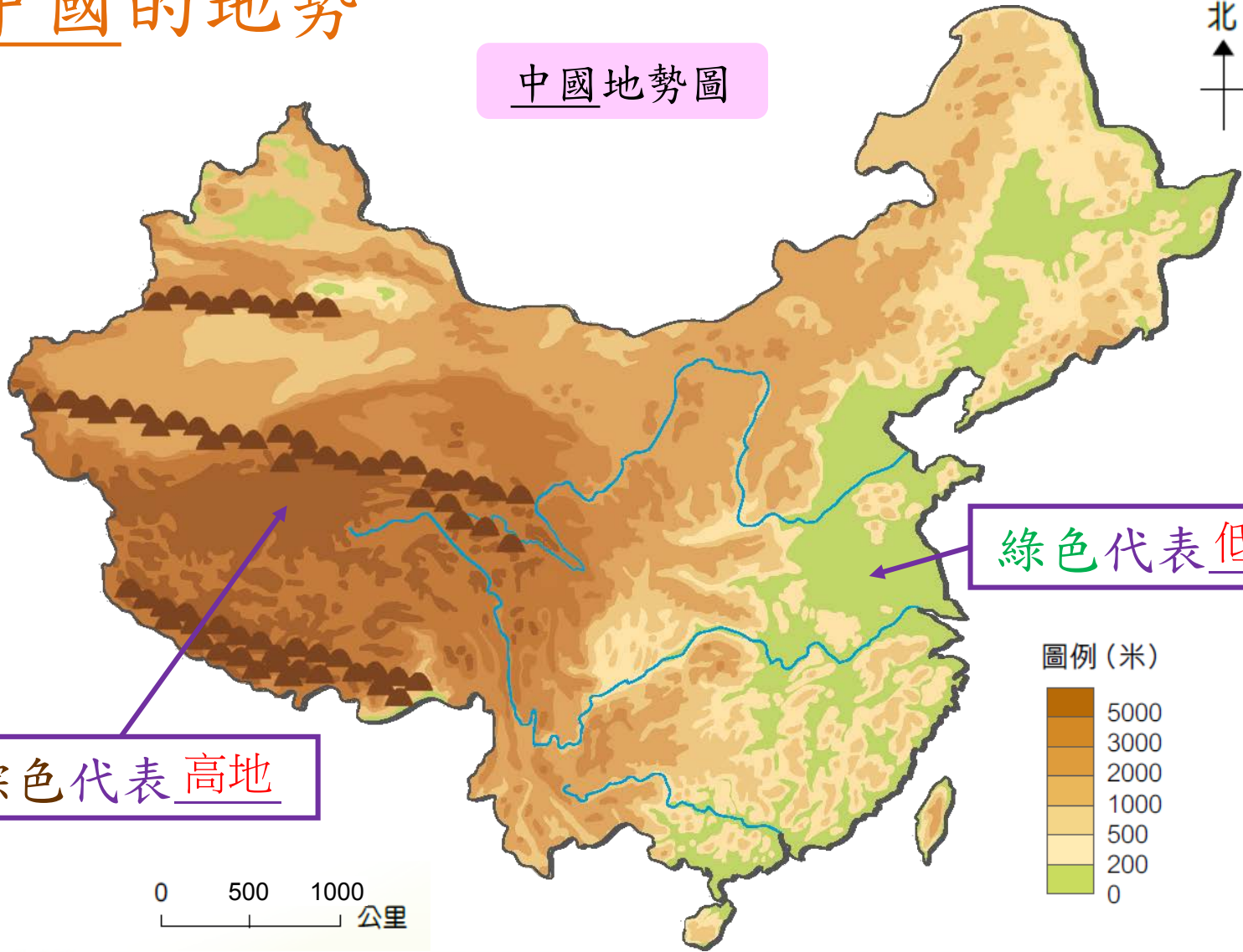
中國的三大地形階梯

第 1 課 中國的地理

活動 3 頁 8

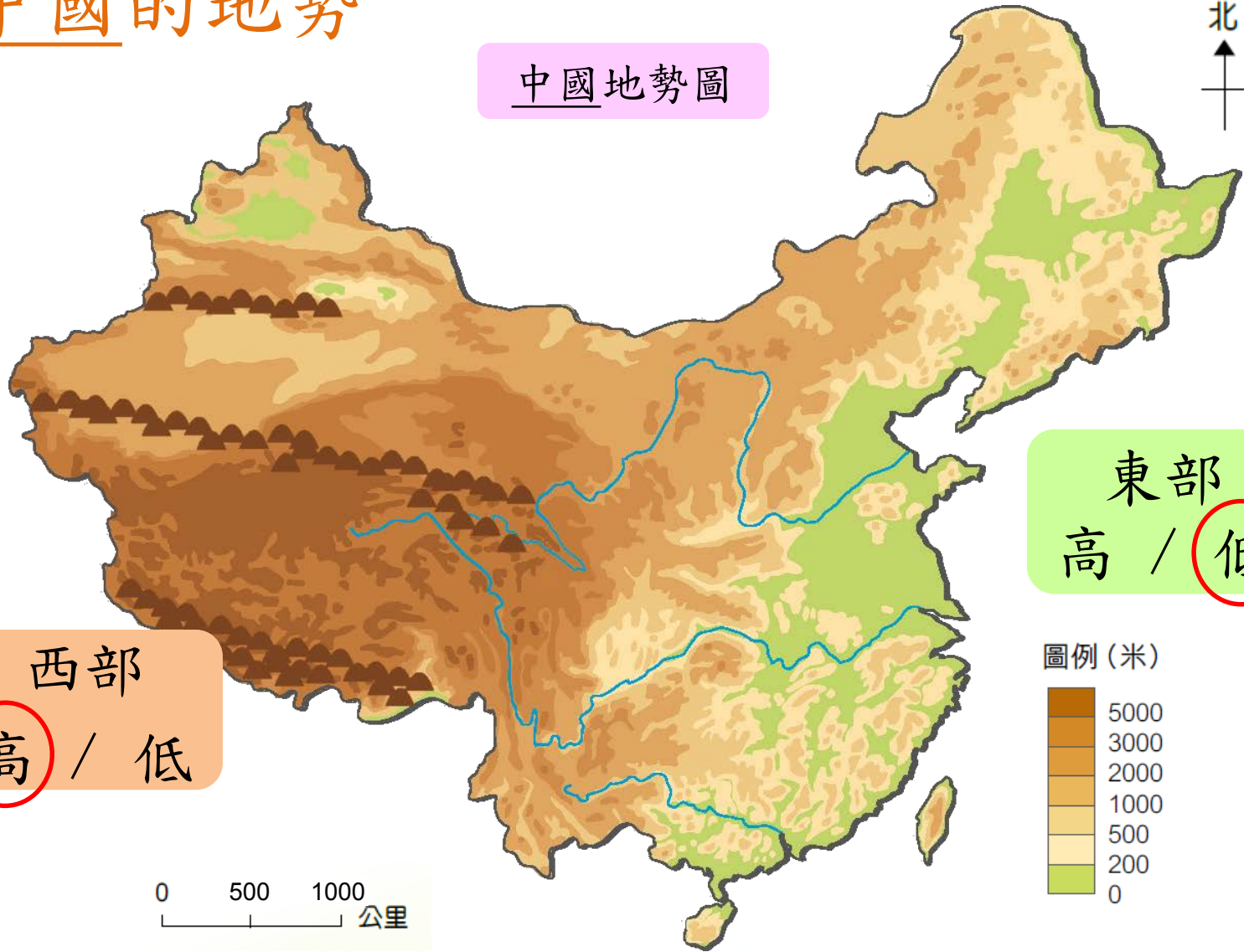
中國的地勢

中國地勢圖




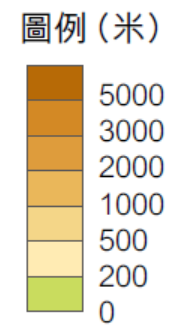
中國的地勢

中國地勢圖



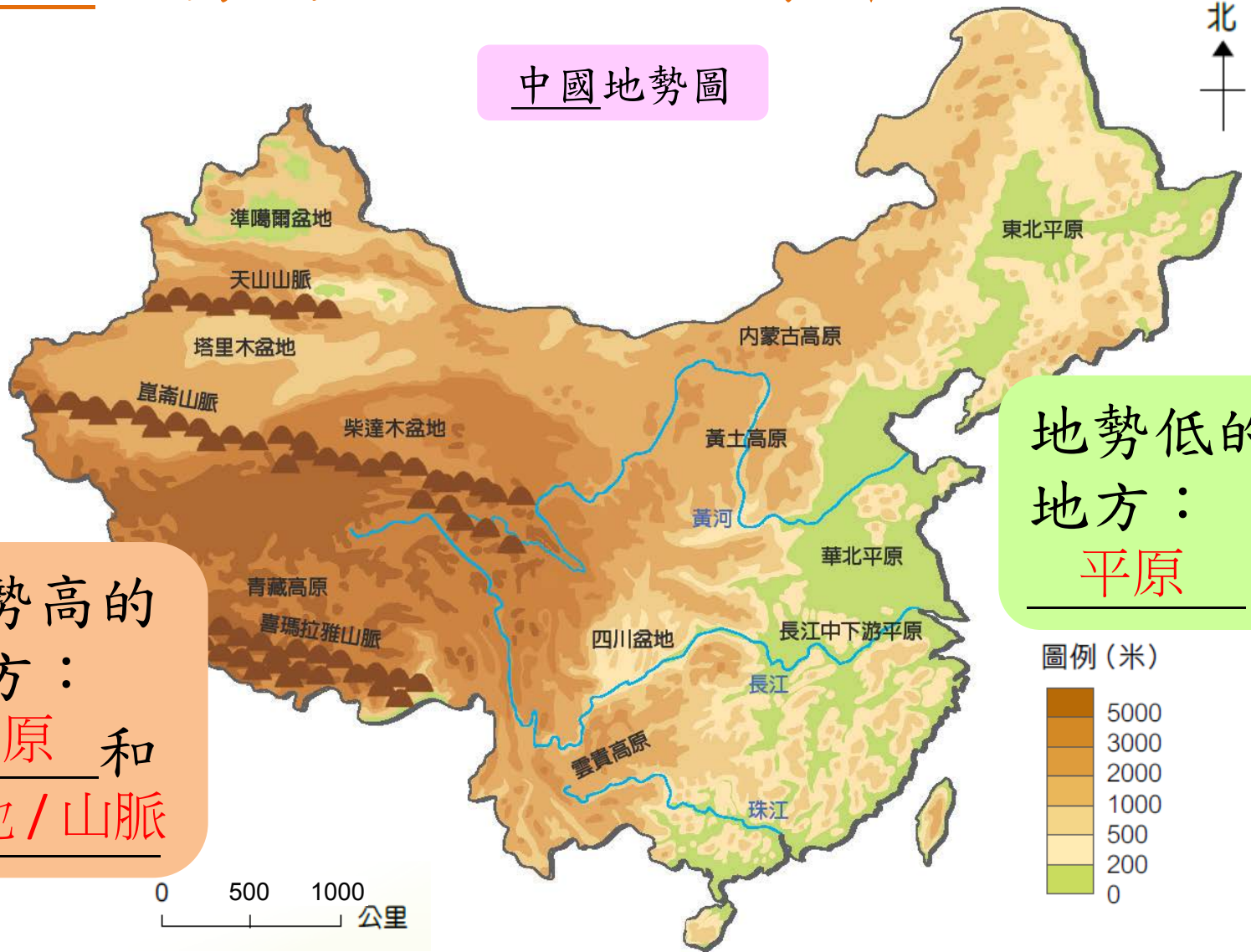
西部
高 / 低

東部
高 / 低



中國地勢高和低的地方有哪些地形？

中國地勢圖



地勢高的地方：
高原 和 山地 / 山脈

地勢低的地方：
平原

中國的主要地形有甚麼特徵？



1. 山地

- 高度通常在 500 米以上，山勢陡峭。其中 3500 米以上的山稱為高山。
- 喜馬拉雅山脈的主峯珠穆朗瑪峯高 8844.43 米，是世界第一高峯。

中國的主要地形有甚麼特徵？



2. 高原

- 高度在 1000 米以上，土地面積廣闊。
- 青藏高原平均高 4000 米以上，面積廣大，佔全國面積的四分之一，有「世界屋脊」之稱。

中國的主要地形有甚麼特徵？



3. 盆地

- 被羣山圍繞、四周高而中間低的地面。
- 四川盆地內有平原、丘陵和低山。河流眾多，因開闢許多梯田，農業發達，有「天府之國」之稱。

中國的主要地形有甚麼特徵？



4. 平原

- 高度多在 200 米以下，地勢平坦，面積廣闊。
- 長江中下游平原平均在 50 米以下，河湖密佈，水田連片，盛產水稻，淡水漁業發達，被稱譽為「魚米之鄉」。

中國的主要地形有甚麼特徵？



5. 丘陵

- 高度 200 至 500 米，由多座小山組成，山坡平緩。
- 東南丘陵由小山和小盆地組成，部分山與山之間有河谷盆地，適合發展農業。

中國地形問與答

1. 山脈主要在中國的哪個部分？

東部

西部

2. 高原和盆地主要在哪個部分？

西部

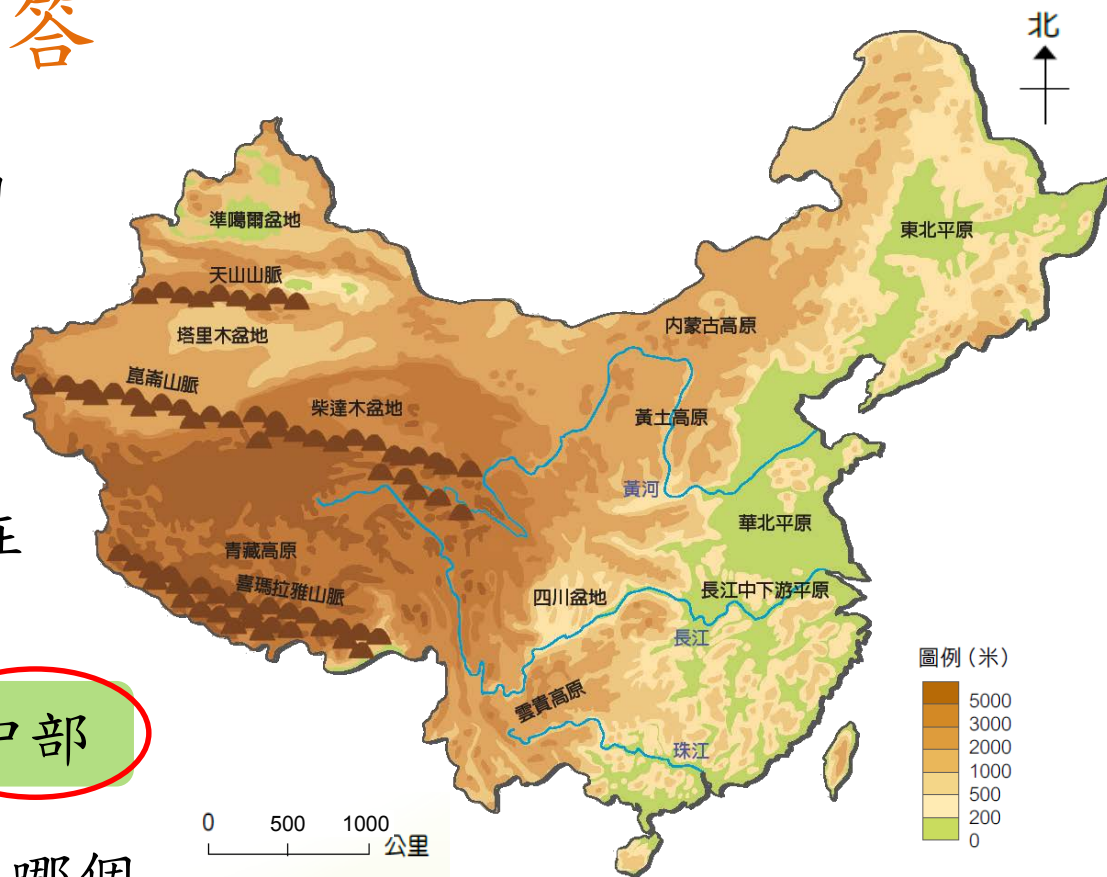
東部

中部

3. 平原和丘陵主要在哪個部分？

東部

中部



總結

中國的地勢特徵是西高東低，呈階梯狀。

