

粉嶺公立學校  
2019-2020 年度二年級下學期常識科  
進展性評估(二)

姓名：\_\_\_\_\_ 班別：\_\_\_\_\_ 編號：\_\_\_\_\_ 成績：\_\_\_\_\_ /100

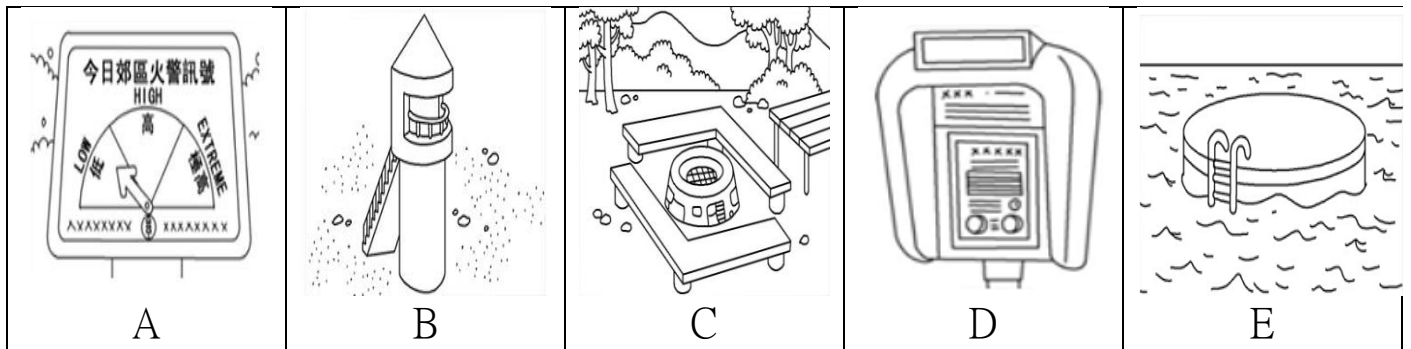
(一)供詞填充：在 \_\_\_\_\_ 填上正確的答案，每個供詞只使用一次。(10%@2%)

白旗	安全	秦高祖	火藥	天氣
秦始皇	火箭	離隊	紅旗	聚集

1. 當海灘掛起 \_\_\_\_\_ 時，表示在這裏游泳會有危險。
2. 秦朝的開國皇帝自稱為「 \_\_\_\_\_ 」。
3. 造紙術、印刷術、指南針和 \_\_\_\_\_ 是中國的四大發明。
4. 郊遊出發前，要留意 \_\_\_\_\_ 情況，帶備適當的用品。
5. 在郊遊時切勿擅自 \_\_\_\_\_ ，獨自到處遊玩。

(二) 配對：把代表答案的字母填在( )內，每個選項只使用一次。(18%@2%)

1. 把以下海灘或郊野公園的設施與用途配對。




- I. 讓遊人在遇到緊急事故時致電求助。( )
- II. 供遊人燒烤。( )
- III. 顯示發生火災的危險性高低。( )
- IV. 供救生員觀察海灘的狀況。( )
- V. 供泳客在海面上稍事休息。( )

2. 以下的做法會帶來甚麼後果？

- I. 逾期歸還圖書 ( ) A. 容易摔倒或撞傷別人。
- II. 在看話劇時使用流動電話 ( ) B. 騷擾別人欣賞話劇。
- III. 在行駛的巴士上追逐 ( ) C. 容易暈眩。
- IV. 在郵政局插隊寄信 ( ) D. 被罰款。
- E. 影響其他人輪候的時間。

(三) 圈圖題：依照題目要求，圈出正確的答案。(6%@2%)

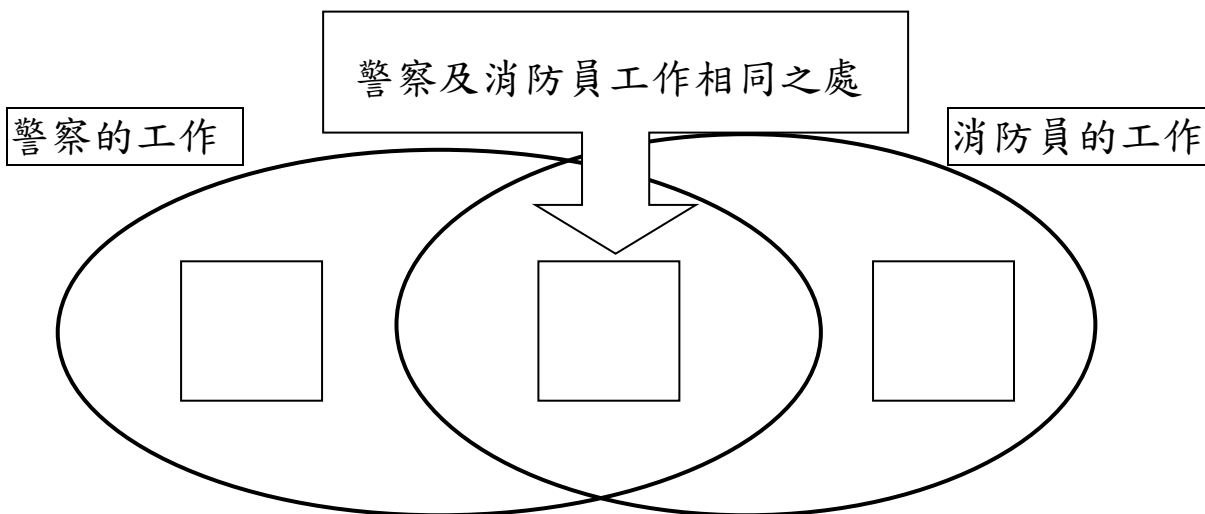
1. 以下哪三人正在破壞海灘的環境？把他們圈起來，多圈扣分。



(四) 溫氏圖題：按題目要求作答，並完成下列各題。(6%@2%)

比較異同：比較警察及消防員工作上各一項相同及不相同之處，將代表答案的英文字母填在方格內。


- A. 保障市民的生命安全    B. 維持治安、撲滅罪行    C. 撲滅火災、拯救傷者




(五) 看圖分類題：把適當的代表字母填在 ( ) 內。(16%@1%)

1. 以下哪些是古代人的生活？哪些是現代人的生活？

A.



B.



C.



D.




i. 古代人的生活 ( )

ii. 現代人的生活 ( )

2. 以下哪些是到海灘遊玩時正確的行為？哪些是不正確的行為？

A.



B.



C.



D.



i. 正確的行為 ( )

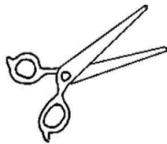
ii. 不正確的行為 ( )

3. 分辨廚師的用具和理髮師的用具。


A.




B.



C.



D.




i. 廚師的用具 ( )

ii. 理髮師的用具 ( )

4. 以下哪些是康樂文娛設施？哪些是購物設施？


A. 籃球場




B. 商場



C. 體育館



D. 街市



i. 康樂文娛設施 ( )

ii. 購物設施 ( )

(六) 選擇題: 把正確答案前的○塗黑。(12% @2%)

1. 人們常以哪位人物代表中華民族的祖先?

- A. 舜。
- B. 炎帝。
- C. 岳飛。
- D. 孫中山。

2. 以下哪項是指南工具?

- A. 羅盤。
- B. 風車。
- C. 圓規。
- D. 地球儀。

3. 以下哪個是中國古代的發明家?

- A. 高錕。
- B. 屠呦呦。
- C. 魯班。
- D. 袁隆平。

4. 以下哪些**不是**公共圖書館為我們提供的服務?

- A. 設有兒童圖書館。
- B. 提供報刊閱覽服務。
- C. 設有電子遊戲機室。
- D. 設有參考資料室。

5. 以下哪項是救援設施?





- A. 消防局。
- B. 郵政局。
- C. 體育館。
- D. 商場。

6. 以下哪個郊野公園位於香港島?

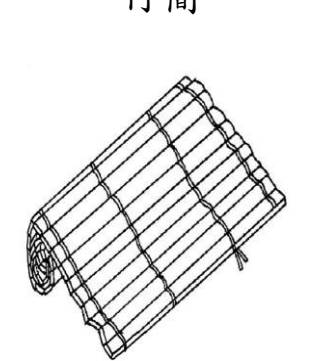
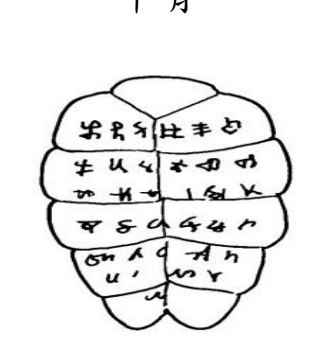
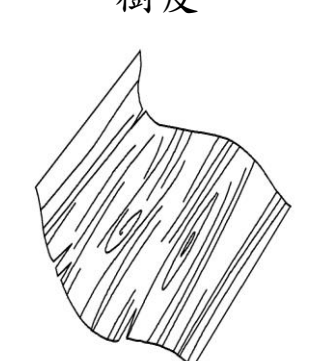
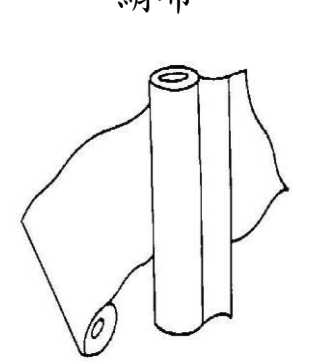
- A. 中北大嶼郊野公園。
- B. 大欖郊野公園。
- C. 大潭郊野公園。
- D. 八仙嶺郊野公園。

(七) 看圖判斷：正確的，在( )內加✓；不正確的在( )內加✗。(12%@1%)





1. 以下哪些人有偉大的發明？

<p style="text-align: center;"><u>孔子</u></p>  <p style="text-align: center;">A. ( )</p>	<p style="text-align: center;"><u>岳飛</u></p>  <p style="text-align: center;">B. ( )</p>	<p style="text-align: center;"><u>蔡倫</u></p>  <p style="text-align: center;">C. ( )</p>	<p style="text-align: center;"><u>畢昇</u></p>  <p style="text-align: center;">D. ( )</p>
--	--	---	--

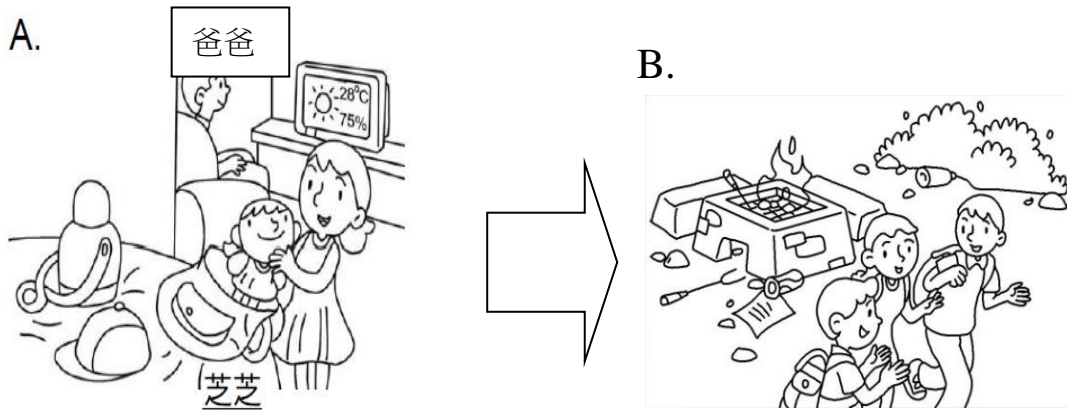
2. 未有紙張前，中國人把文字寫在甚麼地方？

<p style="text-align: center;">竹簡</p>  <p style="text-align: center;">A. ( )</p>	<p style="text-align: center;">甲骨</p>  <p style="text-align: center;">B. ( )</p>	<p style="text-align: center;">樹皮</p>  <p style="text-align: center;">C. ( )</p>	<p style="text-align: center;">絹布</p>  <p style="text-align: center;">D. ( )</p>
--	--	---	--

3. 以下哪些地方供市民消閒娛樂？

<p style="text-align: center;">公園</p>  <p style="text-align: center;">A. ( )</p>	<p style="text-align: center;">游泳池</p>  <p style="text-align: center;">B. ( )</p>	<p style="text-align: center;">港鐵站</p>  <p style="text-align: center;">C. ( )</p>	<p style="text-align: center;">警署</p>  <p style="text-align: center;">D. ( )</p>
---	--	---	---

(八) 生活情境題: 試細心觀察下圖, 然後回答下列各題。(8%@2%)



1. 根據圖 A, 爸爸為郊遊作了甚麼準備?

---

2. 根據圖 A, 芝芝不適宜將哪些物品帶去郊遊時使用?

---

3. 圖 B 市民的行為會為大自然帶來甚麼影響?

---

4. 在香港遇到緊急事故, 可以致電哪個電話號碼向警方求助?

---

(九). 簡答題: 簡單回答下列問題。(12%@2%)

1. 舉出一個位於新界區的地方。 1. \_\_\_\_\_
2. 為了防禦匈奴入侵, 秦始皇下令興建了甚麼? 2. \_\_\_\_\_
3. 舉出一項大會堂舉辦的活動。 3. \_\_\_\_\_
4. 香港特別行政區成立紀念日是在每年的哪一天? 4. \_\_\_\_\_
5. 舉出一項體育館內可以進行的活動。 5. \_\_\_\_\_
6. 誰負責醫治病人? 6. \_\_\_\_\_

全卷完