

立體圖形 (一)

姓名：_____

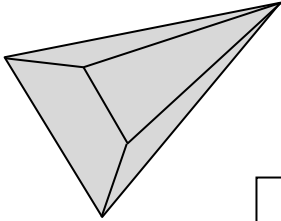
班別：_____ ()

日期：_____

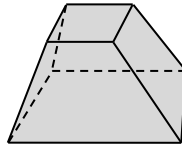
總分：_____

以下各圖中，是柱體的在方格內加 ✓，是錐體的加 △，是球體的加 ○，不屬於以上三種立體的加 ×。


①



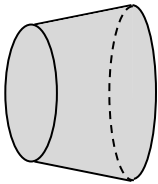
②



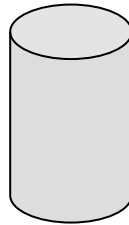
③



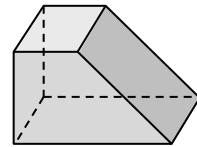
④



⑤



⑥



把答案填在下表中的橫線上。


	面的數量	側面是平面或曲面？	底的形狀	底的數量
⑦ 八角柱體	<u>10</u> 個	<u>平</u> 面	<u>八邊</u> 形	<u>2</u> 個
⑧ 七角錐體	<u>8</u> 個	<u>平</u> 面	<u>七邊</u> 形	<u>1</u> 個
⑨ 圓錐	<u>2</u> 個	<u>曲</u> 面	<u>圓</u> 形	<u>1</u> 個
⑩ 圓柱	<u>3</u> 個	<u>曲</u> 面	<u>圓</u> 形	<u>2</u> 個

完成以下各題。

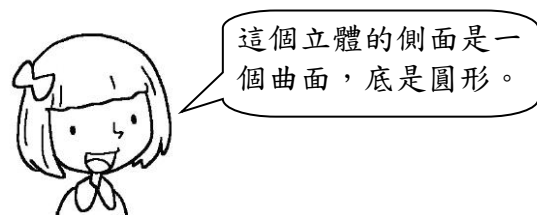
- ⑪ 角柱有 2 個大小相同的底，側面是 四邊/長方 形。
- ⑫ 球 體只有一個面，而這個面是一個 平面 / 曲面。
- ⑬ 有 9 個面的柱體是 七角 柱體。
- ⑭ 有 11 個面的錐體是 十角 錐體。
- ⑮ 有 6 個側面的柱體是 六角 柱體。
- ⑯ 只有 1 個側面的錐體是 圓錐。

猜猜以下各小朋友所描述的是甚麼立體，把答案填在橫線上。

- ⑰ 這是 五角柱體。



- ⑱ 這是 圓錐
或 圓柱。



- ⑲ 這是 六角錐體。

