



余沃霖

年級 校本工作紙 (第一冊 第四課：愉快的校園生活)

姓名：_____

班別：一仁 (23)

日期：11-11-2024

成績：_____

▲為鞏固題，所有同學必須完成；◆為進階題、★為挑戰題，請同學盡力嘗試完成。

(一)▲ 以下是 1A 班的上課時間表。校長正為修改星期一上課時間表的事情而煩惱。假如你是校長，你會怎樣設計時間表呢？

- | | | | | | |
|--------|-----------|-------|-------|---------|-------|
| A. 中文 | B. 英文 | C. 數學 | D. 常識 | E. 音樂 | F. 體育 |
| G. 普通話 | H. 英文 NET | I. 電腦 | J. 視藝 | K. 生命教育 | |

上課時間表	
班別：一仁	星期一
08:30-08:50	班主任課
08:50-09:20	A
09:20-09:50	E
09:50-10:05	小 息
10:05-10:35	K
10:35-11:10	D
11:05-11:15	小 休
11:10-11:45	C
11:45-12:15	B
11:35-11:45	午 膳
13:15-13:45	H
13:45-14:15	J
14:15-14:45	J

(二)◆ 為甚麼你會這樣設計呢？

- 主科(中、英、數、常)課堂集中在上午進行
- 課外活動著重學生多元智能均衡發展
- 其他：_____

(三)★ 試在方格內寫出或畫出你最喜歡的課外活動。

看來沃霖喜歡參加籃球班。

四、老師評語(由老師填寫)：沃霖設計的時間表非常棒！有四科主科

姓名：張雲萱

班別：1A (3)

日期：11-11-2024

成績：2024-11-12

▲為鞏固題，所有同學必須完成；◆為進階題、★為挑戰題，請同學盡力嘗試完成。

(一)▲ 以下是 1A 班的上課時間表。校長正為修改星期一上課時間表的事情而煩惱。假如你是校長，你會怎樣設計時間表呢？

- | | | | | | |
|-------|----------|------|------|--------|------|
| A.中文 | B.英文 | C.數學 | D.常識 | E.音樂 | F.體育 |
| G.普通話 | H.英文 NET | I.電腦 | J.視藝 | K.生命教育 | |

上課時間表	
班別：一仁	星期一
08:30-08:50	班主任課
08:50-09:20	J
09:20-09:50	F
09:50-10:05	小 息
10:05-10:35	G
10:35-11:10	I
11:05-11:15	小 休
11:10-11:45	H
11:45-12:15	E
11:35-11:45	午 膳
13:15-13:45	K
13:45-14:15	F
14:15-14:45	F


(二)◆ 為甚麼你會這樣設計呢？

主科(中、英、數、常)課堂集中在上午進行

課外活動著重學生多元智能均衡發展

其他：_____

(三)★ 試在方格內寫出或畫出你最喜歡的課外活動。



四、老師評語(由老師填寫)：

看來雲萱很喜歡體育課！
若能在時間表上加上主科的課堂更佳。

姓名：陳佳浩

班別：1C (3)

日期：十一月一日

成績：2+
11/11

▲為鞏固題，所有同學必須完成；◆為進階題、★為挑戰題，請同學盡力嘗試完成。

(一)▲ 以下是 1C 班的上課時間表。校長正為修改星期一上課時間表的事情而煩惱。假如你是校長，你會怎樣設計時間表呢？


- | | | | | | |
|-------|----------|------|------|--------|------|
| A.中文 | B.英文 | C.數學 | D.常識 | E.音樂 | F.體育 |
| G.普通話 | H.英文 NET | I.電腦 | J.視藝 | K.生命教育 | |

上課時間表	
班別：一禮	星期一
08:30-08:50	班主任課
08:50-09:20	J
09:20-09:50	B
09:50-10:05	小 息
10:05-10:35	F
10:35-11:10	A
11:05-11:15	小 休
11:10-11:45	I
11:45-12:15	K
11:35-11:45	午 膳
13:15-13:45	H
13:45-14:15	D
14:15-14:45	C

(二)◆ 為甚麼你會這樣設計呢？

- 主科(中、英、數、常)課堂集中在上午進行
- 課外活動著重學生多元智能均衡發展
- 其他：_____

(三)★ 試在方格內寫出或畫出你最喜歡的課外活動。



四、老師評語(由老師填寫)：欣賞你的創意，設計了整零操作課外活動！



姓名：陳雨蓮 班別：1C (2) 日期：十一月十八日 成績：71/100

▲為鞏固題，所有同學必須完成；◆為進階題、★為挑戰題，請同學盡力嘗試完成。

(一)▲ 以下是 1C 班的上課時間表。校長正為修改星期一上課時間表的事情而煩惱。假如你是校長，你會怎樣設計時間表呢？

- | | | | | | |
|-------|----------|------|------|--------|------|
| A.中文 | B.英文 | C.數學 | D.常識 | E.音樂 | F.體育 |
| G.普通話 | H.英文 NET | I.電腦 | J.視藝 | K.生命教育 | |

上課時間表	
班別：一禮	星期一
08:30-08:50	班主任課
08:50-09:20	A
09:20-09:50	E
09:50-10:05	小 息
10:05-10:35	D
10:35-11:10	E
11:05-11:15	小 休
11:10-11:45	B
11:45-12:15	H
11:35-11:45	午 膳
13:15-13:45	I
13:45-14:15	J
14:15-14:45	K

(二)◆ 為甚麼你會這樣設計呢？

- 主科(中、英、數、常)課堂集中在上午進行
- 課外活動著重學生多元智能均衡發展
- 其他：_____

(三)★ 試在方格內寫出或畫出你最喜歡的課外活動。



四、老師評語(由老師填寫)：欣賞你設計的時間表是將課堂平均分配!讚!



姓名: 李慧丹 (9)

班別: 2A

成績: 29/30

▲為鞏固題，所有同學必須完成；◆為進階題、★為挑戰題，請同學盡力嘗試完成。

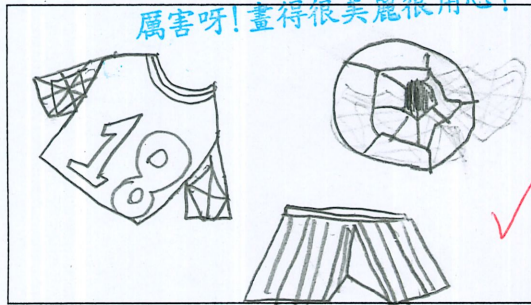
還記得你們在預習工作紙上，寫了一個自己最喜愛的運動嗎？現在，利用自己最喜愛的運動作為一個例子，總結本課所學，思考做該運動前、期間及後的注意事項。

▲我最喜愛的運動: 足球



運動前

- 1. ▲身體狀況: (健康 / 生病)
- 2. ▲天氣情況: (晴天 / 雨天)
- 3. ▲場地: 足球場
- 4. ★裝束: (寫或畫出衣物及保護裝備)



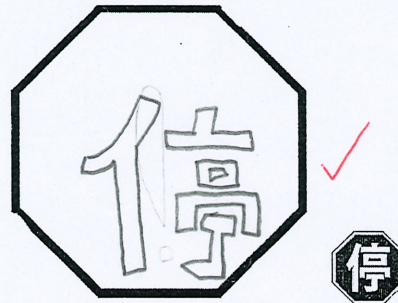
- 5. ▲進行 (熱身 / 緩和) 運動

運動期間

- 1. ▲需注意的事項:


- ☞ 遵守 規則
- ☞ 注意 安全

- 2. ◆如感到不適或受傷: (設計標誌)



運動後

- 1. ▲進行 (熱身 / 緩和) 運動
- 2. ▲補充水分的飲料: 清水
- 3. ◆完成運動的心情: (畫出表情)





姓名：阮霖鋒 (22)

班別：2A

成績：29/10

▲為鞏固題，所有同學必須完成；◆為進階題、★為挑戰題，請同學盡力嘗試完成。

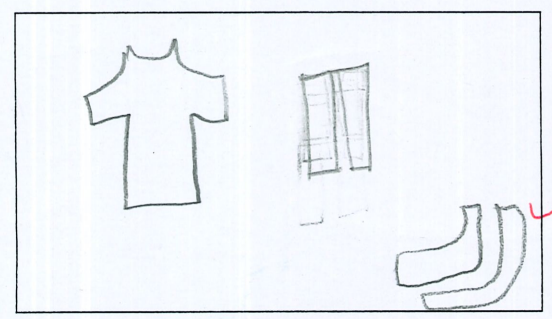
還記得你們在預習工作紙上，寫了一個自己最喜愛的運動嗎？現在，利用自己最喜愛的運動作為一個例子，總結本課所學，思考做該運動前、期間及後的注意事項。



▲我最喜愛的運動：跑步 ✓

運動前

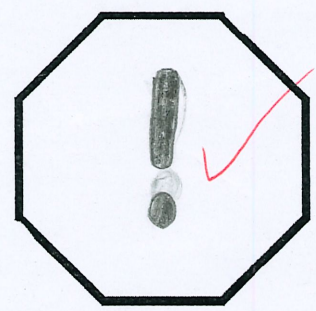
- 1. ▲身體狀況：(健康 / 生病)
- 2. ▲天氣情況：(晴天 / 雨天)
- 3. ▲場地：操場 ✓
- 4. ★裝束：(寫或畫出衣物及保護裝備)



- 5. ▲進行 (熱身 / 緩和) 運動

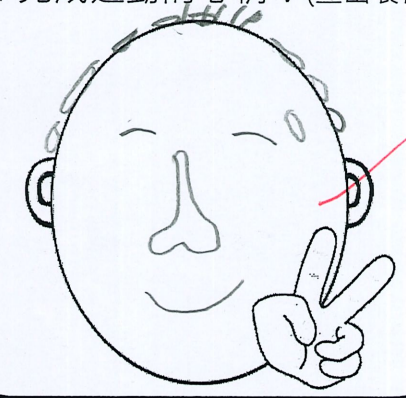
運動期間

- 1. ▲需注意的事項：
 - ☞ 遵守 規則 ✓
 - ☞ 注意 安全 ✓
- 2. ◆如感到不適或受傷：(設計標誌)



運動後

- 1. ▲進行 (熱身 / 緩和) 運動
- 2. ▲補充水分的飲料：水 ✓
- 3. ◆完成運動的心情：(畫出表情)





姓名：劉芷靖 (8)

班別：二二

成績：100%

▲為鞏固題，所有同學必須完成；◆為進階題、★為挑戰題，請同學盡力嘗試完成。

還記得你們在預習工作紙上，寫了一個自己最喜愛的運動嗎？現在，利用自己最喜愛的運動作為一個例子，總結本課所學，思考做該運動前、期間及後的注意事項。


▲我最喜愛的運動：

跑步



運動前

- 1. ▲身體狀況：(健康) / 生病
- 2. ▲天氣情況：(晴天) / 雨天
- 3. ▲場地：操場
- 4. ★裝束：(寫或畫出衣物及保護裝備)



- 5. ▲進行 (熱身) / 緩和) 運動

運動期間

- 1. ▲需注意的事項：


- ☞ 遵守 規則
- ☞ 注意 安全

- 2. ◆如感到不適或受傷：(設計標誌)



運動後

- 1. ▲進行 (熱身) / 緩和) 運動
- 2. ▲補充水分的飲料：水
- 3. ◆完成運動的心情：(畫出表情)



姓名：劉曉明 (16)

班別：2C

成績：



25-11-24

課前預習：就你所知，白天和黑夜有甚麼特點呢？以畫畫及填顏色來表達你所知的景象。

(提示：可思考天色、天上的景物、街上的情況、燈光等)

白天

黑夜

繼續努力



姓名: 柏然


班別: 3(B)

成績: 甲+30/40

▲為鞏固題，所有同學必須完成；◆為進階題、★為挑戰題，請同學盡力嘗試完成。

未來交通工具設計師：

設計一種未來的交通工具，把它畫在空格內，並把它的特色填在 上或加「✓」。



▲ 行走方式	<input type="checkbox"/> 道路 <input type="checkbox"/> 鐵路 <input checked="" type="checkbox"/> 海上 <input type="checkbox"/> 空中
▲ 可載多少人?	<u>6</u> 人
▲ 層數	<u>1</u> 層
◆ 有甚麼安全設備? (可參考書P.19)	<input checked="" type="checkbox"/> 安全帶 <input type="checkbox"/> 扶手 <input type="checkbox"/> 消防設備 <input type="checkbox"/> 其他: _____
★ 利用甚麼能源推動?	<input type="checkbox"/> 蒸汽 <input type="checkbox"/> 柴油 <input type="checkbox"/> 石油氣 <input checked="" type="checkbox"/> 電力 <input type="checkbox"/> 其他: _____
★ 其他特別之處	<u>可以潛下去水底</u> ✓ <u>不錯啊! 可以欣賞神秘的海底世界!</u>



姓名: 伍永嫻

班別: 3(B)

成績: 120

▲為鞏固題，所有同學必須完成；★為挑戰題，請同學盡力嘗試完成。

一. ▲預習部分：假如現在讓你買一件自己「想要」的東西，你會選擇甚麼呢？在以下方框繪畫一件「想要」的東西，然後回答問題。

A. 「想要」的東西名稱: 熊啤啤 30

B. 「想要」的東西價值: 30元 / 無價，不能以金錢衡量。

C. 「想要」的原因: 因為我喜歡熊啤啤。

D. 「想要」東西的購買方法: 向家人要求 / 自己零用錢 / 其他: _____

二. ★你認為甚麼是「想要」？甚麼是「需要」？（可以文字或圖畫表達出來）

「想要」	「需要」
<p><u>我想要娃娃。</u></p> <p style="text-align: right;">欣賞你作出嘗試!</p>	<p><u>我需要螢光筆。</u></p>



姓名: 張悅軒

班別: 3(B)

成績: 100%

▲為鞏固題，所有同學必須完成；◆為進階題、★為挑戰題，請同學盡力嘗試完成。

未來交通工具設計師：

設計一種未來的交通工具，把它畫在空格內，並把它的特色填在 上或加「✓」。

交通工具的名稱: 噴射飛船

▲ 行走方式	<input type="checkbox"/> 道路 <input type="checkbox"/> 鐵路 <input checked="" type="checkbox"/> 海上 <input type="checkbox"/> 空中
▲ 可載多少人?	<u>150</u> ✓ 人
▲ 層數	<u>2</u> ✓ 層
◆ 有甚麼安全設備? (可參考書P.19)	<input type="checkbox"/> 安全帶 <input checked="" type="checkbox"/> 扶手 <input checked="" type="checkbox"/> 消防設備 <input type="checkbox"/> 其他: _____
★ 利用甚麼能源推動?	<input type="checkbox"/> 蒸汽 <input checked="" type="checkbox"/> 柴油 <input type="checkbox"/> 石油氣 <input type="checkbox"/> 電力 <input type="checkbox"/> 其他: _____
★ 其他特別之處	<u>可以在海上加速並可以用噴射器於海面上滑翔，像飛船一樣快速。</u>

很厲害啊! 老師也想乘坐呢!

姓名: 陳欣欣



班別: 3(B)

成績: 100%

▲為鞏固題，所有同學必須完成；◆為進階題、★為挑戰題，請同學盡力嘗試完成。


未來交通工具設計師：

設計一種未來的交通工具，把它畫在空格內，並把它的特色填在 上或加「✓」。



交通工具的名稱: 空中的士 ✓

▲ 行走方式	<input type="checkbox"/> 道路 <input type="checkbox"/> 鐵路 <input type="checkbox"/> 海上 <input checked="" type="checkbox"/> 空中 ✓
▲ 可載多少人?	<u>3-4</u> ✓ 人
▲ 層數	<u>1</u> ✓ 層
◆ 有甚麼安全設備? (可參考書P.19)	<input checked="" type="checkbox"/> 安全帶 ✓ <input type="checkbox"/> 扶手 <input type="checkbox"/> 消防設備 <input type="checkbox"/> 其他: _____
★ 利用甚麼能源推動?	<input type="checkbox"/> 蒸汽 <input type="checkbox"/> 柴油 <input type="checkbox"/> 石油氣 <input checked="" type="checkbox"/> 電力 ✓ <input type="checkbox"/> 其他: _____
★ 其他特別之處	<u>可以飛行</u> ✓ 那就不用擔心交通擠塞的問題了!



姓名: 葉卓琳

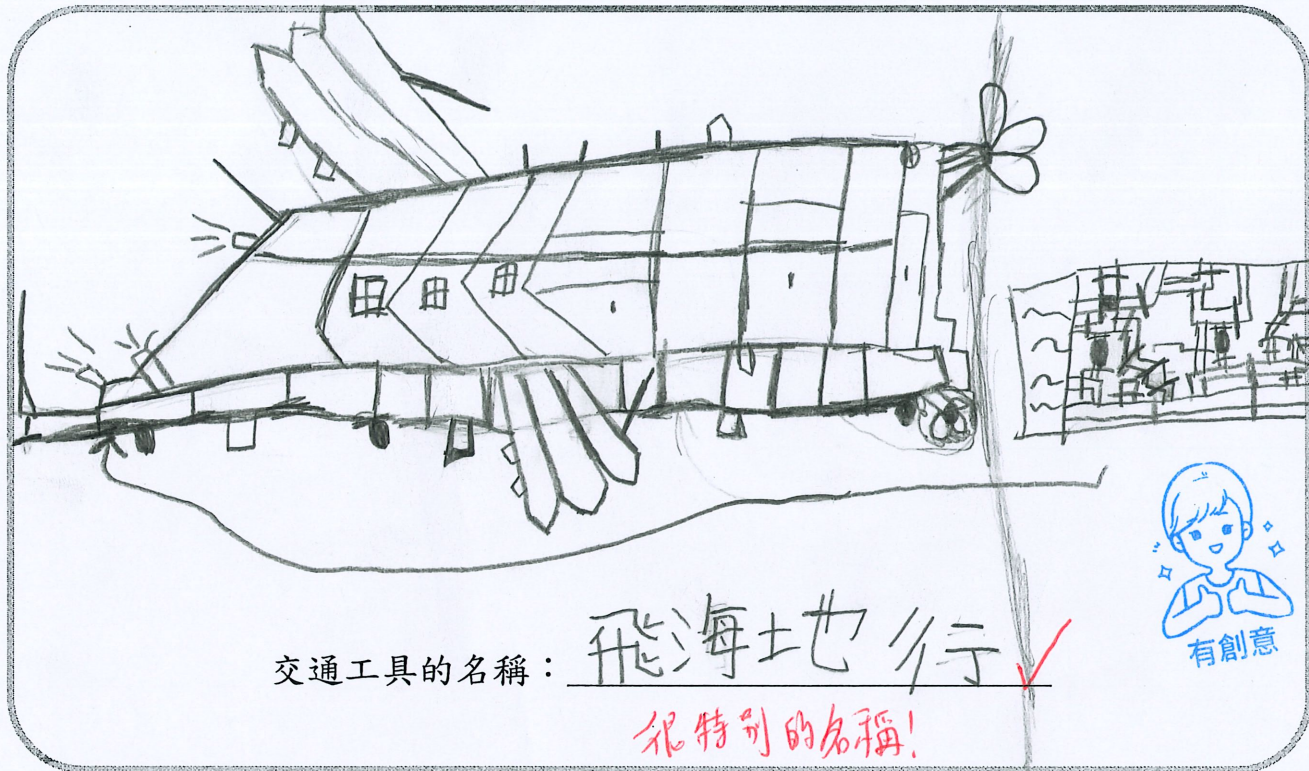
班別: 3(B)

成績: 30/40

▲為鞏固題，所有同學必須完成；◆為進階題、★為挑戰題，請同學盡力嘗試完成。

未來交通工具設計師：

設計一種未來的交通工具，把它畫在空格內，並把它的特色填在 上或加「✓」。



▲ 行走方式	<input checked="" type="checkbox"/> 道路 <input type="checkbox"/> 鐵路 <input checked="" type="checkbox"/> 海上 <input checked="" type="checkbox"/> 空中
▲ 可載多少人?	<u>400</u> ✓ 人
▲ 層數	<u>2</u> ✓ 層
◆ 有甚麼安全設備? (可參考書P.19)	<input checked="" type="checkbox"/> 安全帶 <input checked="" type="checkbox"/> 扶手 <input checked="" type="checkbox"/> 消防設備 ✓ <input checked="" type="checkbox"/> 其他: <u>扶手帶</u> ✓
★ 利用甚麼能源推動?	<input type="checkbox"/> 蒸汽 <input type="checkbox"/> 柴油 <input type="checkbox"/> 石油氣 <input checked="" type="checkbox"/> 電力 <input type="checkbox"/> 其他: _____
★ 其他特別之處	<u>可以飛、可以在海上、道是各</u> ✓

姓名：李煒志 (14)

班別：4A

成績：欣賞你心

預習：

能找出各地方傳統文化

喜歡你的付出，做得好！讚！

我們住在地球村內，世界各地都有著不同的傳統文化和特色。根據個人所學/網上資源等途徑，寫出最能代表該國家/地區的三項事/物品/文化等(可用文字/圖片/圖畫表達出來)。(▲為鞏固題，所有同學必須完成；◆為進階題、★為挑戰題，請同學盡力嘗試完成。)

國家/地區	事/物品/文化/其他		
<p>例子：</p>  <p>美國/國旗</p>	 <p>自由女神/事物</p>	 <p>漢堡包/食物</p>	 <p>欖球/運動</p>
 <p>▲日本/國旗</p>	 <p>建築物、櫻花/事物</p>	 <p>▲(壽司)/食物</p>	 <p>▲卡通/娛樂</p>
 <p>印度/國旗</p>	 <p>◆(嗩吶)/音樂</p>	 <p>◆(咖喱薄餅)/食物</p>	 <p>印度教/宗教</p>
<p>★挑戰題(自訂國家)</p>  <p>★(俄羅斯)/(國旗)</p>	 <p>★(巴拉萊卡琴)/(音樂)</p>	 <p>★(聖彼得堡宮)/(建築物)</p>	 <p>★(布林餅)/(食物)</p>

姓名：劉天瑋定 (17) 班別：4A 成績：100


延伸學習：

中國傳統文化，博大精深，影響後世深遠。作為中國人的一份子，我們可以向世界各國推廣我們的傳統文化，讓其繼續保留及承傳下去。

(▲為鞏固題，所有同學必須完成；◆為進階題、★為挑戰題，請同學盡力嘗試完成。)



- ▲選取的範疇：(服裝 / 飲食 / 建築 / 藝術 / 其他：_____)
- ▲在下面方框畫出/貼出相關傳統文化的資料/圖片，並在橫線寫上該事物的名稱。



看到你的用心也
能找出特色之處也

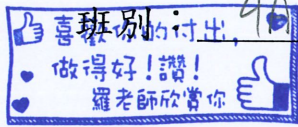
- 列出二個該事物值得被推廣及承傳的原因。(它們有甚麼特色?)
 - ◆原因一. 因為我覺得它們每一個黑占心都有它們的
 - ★原因二. 因為我喜歡吃黑占心。

粉嶺公立學校

2024-2025 年度 常識科 四年級 預習工作紙 (第四課 世界各地文化)

姓名：趙樹明 (J)


能找出各地的傳統文化 Good



成績：

預習：

我們住在地球村內，世界各地都有著不同的傳統文化和特色。根據個人所學/網上資源等途徑，寫出最能代表該國家/地區的三項事/物品/文化等(可用文字/圖片/圖畫表達出來)。(▲為鞏固題，所有同學必須完成；◆為進階題、★為挑戰題，請同學盡力嘗試完成。)

國家/地區	事/物品/文化/其他		
例子：  美國/國旗	 自由女神/事物	 漢堡包/食物	 欖球/運動
 ▲日本/國旗	 建築物、櫻花/事物	 ▲(壽司)/食物	 ▲卡通/娛樂
 印度/國旗	 ◆(噴口內)/音樂	 ◆(叻咖喱)/食物	 印度教/宗教
★挑戰題(自訂國家) ★()/()	★()/()	★()/()	★()/()

欣賞你

粉嶺公立學校 ★

2024-2025 年度 常識科 四年級 延伸工作紙 (第四課 世界各地文化)

姓名: 陳廷赫 (|)

班別: 4B

成績: 100

411


延伸學習:

每一個國家也有屬於自己的錢幣，錢幣有不同的設計主題，各有特色。現今香港的鈔票也有不同的設計主題，展示了香港的特色或與市民生活息息相關。特區政府打算推出全新的 5000 元新鈔票，向世界各國展示香港的特色或本地文化。試化身為一位小小的鈔票設計師，設計一張全新的 5000 元新鈔票。

1. 選取的範疇:

(服裝 / 飲食 / 建築 / 藝術 / 其他: _____)

2. 在下面方框畫出 5000 元新鈔票，並在橫線寫上鈔票的主題。



3. 寫出你所設計的鈔票的獨特之處。

維多利亞港是香港最有名的景點，代表香港的繁榮昌盛。

所畫的景物全部是香港特別的景物，十分精美!

咖喱 壽司

班級

粉嶺公立學校

2024-2025 年度 常識科 四年級 預習工作紙 (第四課 世界各地文化)

姓名: 葉子嵐 (22)

班別: 4C



成績: 甲

17/10

預習:

我們住在地球村內，世界各地都有著不同的傳統文化和特色。根據個人所學/網上資源等途徑，寫出最能代表該國家/地區的三項事/物品/文化等(可用文字/圖片/圖畫表達出來)。

(▲為鞏固題，所有同學必須完成；◆為進階題、★為挑戰題，請同學盡力嘗試完成。)

國家/地區	事/物品/文化/其他		
例子:  美國/國旗	 自由女神/事物	 漢堡包/食物	 欖球/運動
 ▲日本/國旗	 建築物、櫻花/事物	 ▲(壽司)/食物	 ▲卡通/娛樂
 印度/國旗	 ◆(大鼓)/樂器	 ◆(咖喱)/食物	 印度教/宗教
★挑戰題(自訂國家)  ★(英國)/(國旗)	 ★(牛柳)/(食物)	 ★(聖堂)/(宗教)	 ★(小提琴)/(樂器)

旗

粉嶺公立學校

2024-2025 年度 常識科 四年級 預習工作紙 (第四課 世界各地文化)

姓名: 廖柏恩 (21)

班別: 4c

Well Done! 成績: 17/20


預習:

我們住在地球村內，世界各地都有著不同的傳統文化和特色。根據個人所學/網上資源等途徑，寫出最能代表該國家/地區的三項事/物品/文化等(可用文字/圖片/圖畫表達出來)。



(▲為鞏固題，所有同學必須完成；◆為進階題、★為挑戰題，請同學盡力嘗試完成。)

國家/地區	事/物品/文化/其他		
例子:  美國/國旗	 自由女神/事物	 漢堡包/食物	 欖球/運動
 ▲日本/國旗	 建築物、櫻花/事物	 ▲(壽司)/食物	多啦A夢  ▲卡通/娛樂
 印度/國旗	 ◆(西蘇里豔)/樂器	 ◆(叻哩)/食物	 印度教/宗教
★挑戰題(自訂國家)  ★(意大利)(國旗)	 ★(比薩斜塔)(事物)	 ★(意大利)(食物)粉	 ★(足球)(運動)


世界遺產是由聯合國教科文組織批准列入《世界遺產名錄》的具有突出普遍價值的自然區域和文化遺存。中國是世界上擁有世界遺產類別最齊全的國家之一，也是世界自然與文化雙遺產數量最多的國家。截止2021年7月，被列入《世界遺產名錄》的中國世界遺產共有56處（其中世界文化遺產38處，世界自然遺產14處，世界文化與自然雙遺產4處），在數量上居世界第一位。中國首都北京擁有7處世界遺產，是世界上擁有世界遺產最多的城市。





一. 瀏覽下列網站及影片，認識中國的世界遺產。

	
中國的世界遺產 (中國青旅假期網站)	中國的世界遺產 (ETV)

二. 請同學介紹一個中國的世界遺產。把該世界遺產畫或貼在方框內，並完成下表。



厲害呀! 畫得很美麗很用心!

它的名稱	故宮 ✓
位處省份	北京 ✓
它的特色 或 被列為世界遺產的原因	在紫禁城宮殿樓台亭閣的裝飾中，從屋頂與斗拱，從台榭與柱板，從內外檐裝修，從天花藻井，以及彩畫和琉璃瓦件，無不留影現着唯我獨尊的皇家氣派。 ✓

認真做資料搜集，用心完成課業，非常好!

姓名：陳俊銘(2)

班別：5A

成績：7+
2024-10-25

世界遺產是由聯合國教科文組織批准列入《世界遺產名錄》的具有突出普遍價值的自然區域和文化遺存。中國是世界上擁有世界遺產類別最齊全的國家之一，也是世界自然與文化雙遺產數量最多的國家。截止2021年7月，被列入《世界遺產名錄》的中國世界遺產共有56處（其中世界文化遺產38處，世界自然遺產14處，世界文化與自然雙遺產4處），在數量上居世界第一位。中國首都北京擁有7處世界遺產，是世界上擁有世界遺產最多的城市。




一. 瀏覽下列網站及影片，認識中國的世界遺產。



中國的世界遺產 (中國青旅假期網站)

中國的世界遺產 (ETV)

二. 請同學介紹一個中國的世界遺產。把該世界遺產畫或貼在方框內，並完成下表。




厲害呀! 畫得很美麗很用心!



它的名稱	<u>萬里長城</u> ✓
位處省份	<u>北京</u> ✓
它的特色 或 被列為世界遺產的原因	<u>長城是中國也是世界上修建時間最長、 工程量最大的一項古代防禦工程。</u> ✓

用心完成，並認真做資料搜集，非常好! ♥

世界遺產是由聯合國教科文組織批准列入《世界遺產名錄》的具有突出普遍價值的自然區域和文化遺存。中國是世界上擁有世界遺產類別最齊全的國家之一，也是世界自然與文化雙遺產數量最多的國家。截止2021年7月，被列入《世界遺產名錄》的中國世界遺產共有56處（其中世界文化遺產38處，世界自然遺產14處，世界文化與自然雙遺產4處），在數量上居世界第一位。中國首都北京擁有7處世界遺產，是世界上擁有世界遺產最多的城市。




一. 瀏覽下列網站及影片，認識中國的世界遺產。

	
<p><u>中國</u>的世界遺產 (中國青旅假期網站)</p>	<p><u>中國</u>的世界遺產 (ETV)</p>

二. 請同學介紹一個中國的世界遺產。把該世界遺產畫或貼在方框內，並完成下表。

厲害呀! 畫得很美麗很用心!

張老師表揚你



它的名稱	天壇 ✓
位處省份	北京 ✓
它的特色 或 被列為世界遺產的原因	為明、清兩朝皇帝祭天求雨和祈禱豐年的專用祭壇, 是世界上現存規模最大最完美的古代祭天建築群。 ✓

認真做資料搜集, 用心完成課業, 非常好!

2024-10-25

世界遺產是由聯合國教科文組織批准列入《世界遺產名錄》的具有突出普遍價值的自然區域和文化遺存。中國是世界上擁有世界遺產類別最齊全的國家之一，也是世界自然與文化雙遺產數量最多的國家。截止2021年7月，被列入《世界遺產名錄》的中國世界遺產共有56處（其中世界文化遺產38處，世界自然遺產14處，世界文化與自然雙遺產4處），在數量上居世界第一位。中國首都北京擁有7處世界遺產，是世界上擁有世界遺產最多的城市。



一. 瀏覽下列網站及影片，認識中國的世界遺產。



中國的世界遺產 (中國青旅假期網站)



中國的世界遺產 (ETV)

二. 請同學介紹一個中國的世界遺產。把該世界遺產畫或貼在方框內，並完成下表。

兵馬俑



厲害呀! 畫得很美麗很用心!

它的名稱	兵馬俑
位處省份	中國的陝西省西安市
它的特色 或 被列為世界遺產的原因	它是世界上最大的地下軍事博物館。

用心完成，非常好! 20

姓名：羅濤濤 ()

班別：5A

成績：78

2024-10-25

世界遺產是由聯合國教科文組織批准列入《世界遺產名錄》的具有突出普遍價值的自然區域和文化遺存。中國是世界上擁有世界遺產類別最齊全的國家之一，也是世界自然與文化雙遺產數量最多的國家。截止2021年7月，被列入《世界遺產名錄》的中國世界遺產共有56處（其中世界文化遺產38處，世界自然遺產14處，世界文化與自然雙遺產4處），在數量上居世界第一位。中國首都北京擁有7處世界遺產，是世界上擁有世界遺產最多的城市。



一. 瀏覽下列網站及影片，認識中國的世界遺產。




中國的世界遺產 (中國青旅假期網站)



中國的世界遺產 (ETV)

二. 請同學介紹一個中國的世界遺產。把該世界遺產畫或貼在方框內，並完成下表。



厲害呀! 畫得很美麗很用心!



它的名稱	故宮
位處省份	北京
它的特色 或 被列為世界遺產的原因	這裏曾是古代皇帝居住的地方

用心完成, 非常好! 😊

姓名: 陳俊喜 (24)

班別: 5B

分數: 甲一

為鼓勵學生閱讀，關心社會時事，請同學閱讀以下的時事新聞，並寫出你的看法：

報章/媒體名稱: 文匯報

剪報/紀錄日期: 2024年10月24日

A7

文匯要聞

責任編輯: 趙一駒

2024年10月24日(星期四) 香港文匯報

美國無人機福田口岸配送航線開航 港人可異地下單

點外賣享「空投」 港人體驗人來貨到

香港文匯報訊(記者 郭若溪 大灣區快線 深圳報導) 福田口岸可以點無人機外賣了，港人手機落單最快10分鐘可取。10月23日，美國無人機福田口岸航線正式開航，這是內地首條設在口岸區域的常態化無人機配送航線。該航線起自福田COCO Park，空投櫃距離福田口岸2號門僅50米，在口岸附近點外賣即可享受「空投」服務，還支持香港手機號碼下單及取貨。目前，無人機配送已接入COCO Park商圍的肯德基、喜茶、壽司、金戈戈等餐飲品牌的部分產品，包括漢堡、奶茶、咖啡、燒臘飯、糕點等多種飲品小吃和主食。由於無人機配送重量有上限，單次下單應低於2.4公斤，約2杯至3杯奶茶的重量。此外，據介紹，該航線也支持異地下單的模式，即在香港前往深圳途中，消費者可以在路上提前點好想吃的奶茶點心等。系統提示的無人機配送到達時間誤差僅有數秒鐘，可以實現「人來貨到」的全新體驗，從而省去了到店排隊等餐的時間。

「從下單到收到約20分鐘」

下午4時許，福田口岸迎來了大批從香港返回深圳的跨境學生，中三港生李同學走出口岸大廳2號門，就被路過的美團無人機投遞櫃所吸引。「我看到投遞的時候剛好有無人機降落，便走進去，發現是無人機送外賣，特別有新意，就跟着櫃子上的指引操作，下單了一杯啖啖真乳茶，從下單到收到約20分鐘，比人工配送要快多了。」李同學直言，看無人機降落到空投櫃的過程非常有趣，自己還拿出手機拍了視頻，打算分享給家人和朋友，讓他們也來試下。

「真的很過癮，我還想再體驗一次。」李同學說，之後打算剛過關就下單，等走到取餐點，差不多就送到，一出關就喝到奶茶。他表示，對比之前是要回到家點外賣，或是走到商超現場排隊下單才能買方便很多。

香港文匯報記者在福田口岸看到，準備返港的港人曾先生正在無人機空投櫃前領取下幾分鐘前下單的喜茶。他告訴香港文匯報記者，之前就知深圳有無人機外賣，但不知道福田口岸這裏有。他在小紅書上看到，就趕緊過來體驗一下。「點了一杯喜茶普鮮，對比在香港點外賣，深圳不論是人工配送還是無人機配送，都非常方便，無人機甚至更便宜，現在還有優惠券送。」

固定降落點免去「人找貨」

港人北上消費的熱潮，為深圳消費市場注入源源不斷的活力。美團發布《港人北上消費數據簡報》顯示，2024年第一季度，深圳成為港人北上消費最熱門的城市，相關交易額環比上季度增長11.2%，訂單量環比增長18.9%。

美國無人機相關負責人受訪時表示，在看到巨大消費需求同時，也注意到一些新生的市場痛點：比如在福田口岸，每天會產生數百上千個外賣訂單，它們主要來自往返深港之間的香港市民。但這裏每天也有數十萬計的人流穿梭，大家很難與外賣員交接。相比其他區域，口岸外賣訂單的配送時長平均要多近20分鐘。

此次口岸航線的開通正是為了解決上述問題，後續市民在福田口岸下單，如果是由無人機配送，預計可為用戶節省近30分鐘的等待時間，同時固定的降落點也免去了「人找貨」的煩惱，方便特別趕時間過關的用戶。

港人盼港盡快有無人機配送

港人林先生盼望香港能盡快有無人機外賣，他說，無人機配送的形式比較先進，深圳是科技之都，希望香港也能慢慢普及，讓大家的的生活更方便。準備返港的港人胡小姐也領取了下單的蛋糕和奶茶。「我之前在蓮花山公園用過這種無人機外賣，很新奇，很方便，操作也不難，付款後不到12分鐘就送到了，和系統提示的預計時間基本一致，送得很快很準時。」



美國無人機福田口岸配送航線開航，支持異地下單。圖為香港遊客體驗在無人機投遞櫃領取外賣。

香港文匯報記者郭若溪攝



美國外賣無人機正在福田口岸上空工作。

香港文匯報記者郭若溪攝



港人胡小姐正在用微信香港錢包支付。

香港文匯報記者郭若溪攝

小貼士 | 港人下單小Tips

Q: 香港手機是否可以下單?

A: 可以，該航線支持香港手機號碼下單及取貨，港人使用美團無人機小程序下單更方便，可支持香港手機號，並且也支持異地下單模式，即在港深往返時，可以在路上提前下單商品，收貨地址填寫「美團福田口岸前廣場無人機空投櫃」。

Q: 可選用何種在線支付方式?

A: 該航線下單時可通過微信香港錢包、支付寶等多種線上支付方式支付，目前，微信香港錢包推出優惠「滿20減8」活動，首先在頁面領取優惠券，再以微信香港錢包進行交易，即可享受單筆優惠。

Q: 可點外送物品重量上限是多少?

A: 由於無人機配送重量有上限，單次下單商品重量要小於2.4公斤，一般2杯至3杯奶茶符合需求。下單後還需確認「無人機已接管」，避免誤操作成人工配送。

Q: 是否有運營時間限制?

A: 運營時間為上午10:00至傍晚17:25。

整理: 香港文匯報記者 郭若溪

專線運營情況

公園景區:

已啓用福田口岸、世界之窗、錦繡中華、歡樂谷、海濱生態公園、人才公園、深圳灣北灣、蓮花山公園、筆架山體育公園、北站中心公園、圖書館北館、白石龍音樂公園等15個無人機空投櫃。

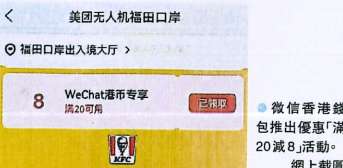
寫字樓住宅:

龍崗星河商圍、民治天虹商圍、龍崗龍城商圍、西麗商圍、寶能環球區商圍、海雅繽紛城商圍、壹方天地商圍等7個商圍，涵蓋寫字樓及住宅。

高校:

清華大學深圳國際研究生院、北京大學深圳研究生院、清華深圳國際校園3所高校無人機空投櫃。

整理: 香港文匯報記者 郭若溪



微信香港錢包推出優惠「滿20減8」活動，網上載圖

文章不合適，原因:

(老師批改用)

1. 身分大轉換

請選取文章中人物/機構，代入角色，以其角度出發，寫出相關看法/建議。

1.1 假如我是 外賣員，我會 覺得無人機「空投」的投入使用和使用的範圍的擴大，會減少接單的數量和工作機會。

(不可少於 20 字)

1.2 假如我是 餐廳老闆，我會 樂意使用無人機「空投」這個外送服務，這樣會增加客源，增加營業額。

(不可少於 20 字)

1.3 假如我是 顧客，我會 嘗試使用這個服務，但是覺得選餐會受到限制，比較適合單人使用。

(不可少於 20 字)

2. 你對這則時事新聞有甚麼個人看法？(不可少於 30 字)

我	覺	得	無	人	機	「	空	投	」
的	使	用	，	體	驗	出	科	技	與
我	們	的	生	活	越	來	越	密	切
。	科	技	的	普	及	會	令	我	們
生	活	更	加	方	便	。			

30 字

60 字

姓名：程灝鈞 (4)

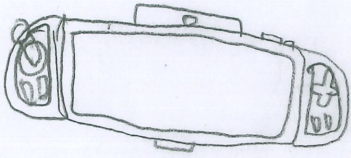
班別：5B

成績：24

23 OCT 2024

請同學根據以下指示回答問題及完成任務。

1. 在家中找出一件你認為「最有價值的東西」。(把它畫下來及寫上該物品的名稱)

	物品名稱： <u>switch</u>
---	---------------------






2. 為甚麼你認為這是最家中最有價值的東西呢?

我認為我家最有價值的東西是switch。

3. 假如有人願意出價購買上述的東西，要多少錢你才願意出讓呢?

要給我三千元才能給他。

4. 拍下該東西的照片，然後根據下列步驟，上載到「五年級拍賣場」。

步驟一	步驟二：上載照片	
掃描 QR Code 	 <p>按「+」</p>	 <p>按此選擇照片</p>  <p>2. 按此發佈</p>  <p>1. 寫下字句： (中文姓名)</p>

5. 看看同學們拍賣了甚麼東西，於帖子留言寫下你認為該東西所值的價錢。(須注意言行)

例子 1

林SIR喜歡的，一定很貴，我願意出\$10000

例子 2

這品牌的品質十分好，我願意出\$500

姓名：蘇熾文 (7)班別：5B成績：甲一

15 OCT 2024

閱讀以下的時事新聞，並完成課業。

報章/媒體名稱：東方日報、星島日報

剪報/紀錄日期：2024年10月2日


本港貧富差距擴闊 貧窮長者較5年前增四成

有慈善機構昨日(2/10)發表《香港貧窮狀況報告2024》，指今年第1季度本港整體貧窮率高達20%，貧富懸殊和長者貧窮問題趨於嚴重，建議政府加強扶貧政策。

該慈善機構引用政府統計處2019至2023年和今年第1季的數據進行分析，發現今年首季本地貧窮率上升至20%，整體貧窮人口達139萬5千人。最低和最高收入家庭組別的月入中位數(將一組數值由小至大排列，最中間的數值便是中位數)，差距高達82倍，顯示貧富懸殊問題嚴重。另外，65歲或以上的貧窮長者人數超過58萬，較2019年急增43%；而獨老和雙老貧窮住戶合共高達26萬，分別較2019年大幅上升47%和55%。調查同時發現，本港現時長者勞動參與率只有14%，較內地的25%和挪威的22%低。

慈善機構指出，貧窮人口增加與人口老化有密切關係。本港約40%貧窮戶為獨老和雙老家庭，由於他們一般無工作收入，又無子女，加上積蓄不多，所以生活費也不多。此外，經濟環境轉差，疫後恢復未如預期，也拉低貧窮人口的收入；相反，高收入組別疫後恢復較理想，收入顯著增加，導致「窮者越窮，富者越富」，貧富差距進一步拉闊。

慈善機構表示，貧窮率上升已敲響警號，建議政府在即將推出的施政報告中加強扶貧。機構建議政府應重新考慮訂立貧窮線，以全面掌握貧窮情況及其趨勢，藉此訂立更合適的扶貧策略。針對獨老、雙老貧窮問題方面，機構認為政府應為相關長者提供更多支援，例如為有意重返職場的長者提供機會和協助。



一. 想一想：有人提出政府應增加社會福利支出以照顧社會上的貧窮人口。請以正反立場出發，以不同持份者角度為事件進行分析。

支持政府增加社會福利支出

反對政府增加社會福利支出

角色：貧窮長者

理據：因為可能
他們生活用難。

*自訂角色：乞丐

理據：他們長期
沒有食物。

角色：交重稅的市民

理據：為甚麼我工
作的錢要給
他們。

*自訂角色：稅

理據：為甚麼我長
工作的錢有一點
要捐給他們。

VS

二. 表達感受：

你對這則時事新聞有甚麼個人看法？(不可少於 30 字)

我	對	這	則	時	事	的	新	聞	我
支	持	政	府	增	加	社	會	福	利
支	出	,	感	到	十	分	同	意	30 字
因	為	有	一	些	貧	窮	的	市	民
可	能	長	期	都	沒	有	進	食	。

沒(沒)

姓名：石依璇 (15)



班別：5C




成績：17

世界遺產是由聯合國教科文組織批准列入《世界遺產名錄》的具有突出普遍價值的自然區域和文化遺存。中國是世界上擁有世界遺產類別最齊全的國家之一，也是世界自然與文化雙遺產數量最多的國家。截止 2021 年 7 月，被列入《世界遺產名錄》的中國世界遺產共有 56 處（其中世界文化遺產 38 處，世界自然遺產 14 處，世界文化與自然雙遺產 4 處），在數量上居世界第一位。中國首都北京擁有 7 處世界遺產，是世界上擁有世界遺產最多的城市。

一. 瀏覽下列網站及影片，認識中國的世界遺產。

	
<u>中國</u> 的世界遺產 (中國青旅假期網站)	<u>中國</u> 的世界遺產 (ETV)

二. 請同學介紹一個中國的世界遺產。把該世界遺產畫或貼在方框內，並完成下表。



很宏偉~十分漂亮
認真~

它的名稱	山我眉山 - 乐山大佛 ✓
位處省份	四川 ✓
它的特色 或 被列為世界遺產的原因	中国最大的一尊摩崖石刻雕像 ✓

粉嶺公立學校

2024-2025 年度 常識科 五年級 校本預習工作紙 (第五冊 第一課: 中國的地理)

姓名: 吳啟豪

班別: 五禮



成績: _____

預習:

你認識你的故鄉嗎? 試根據個人經驗、搜集資料或訪問父母, 帶領老師進入你的尋根之路。

1. 我的籍貫或是一個曾旅遊的名勝: 梅州梅縣 → 媽, 媽媽也是

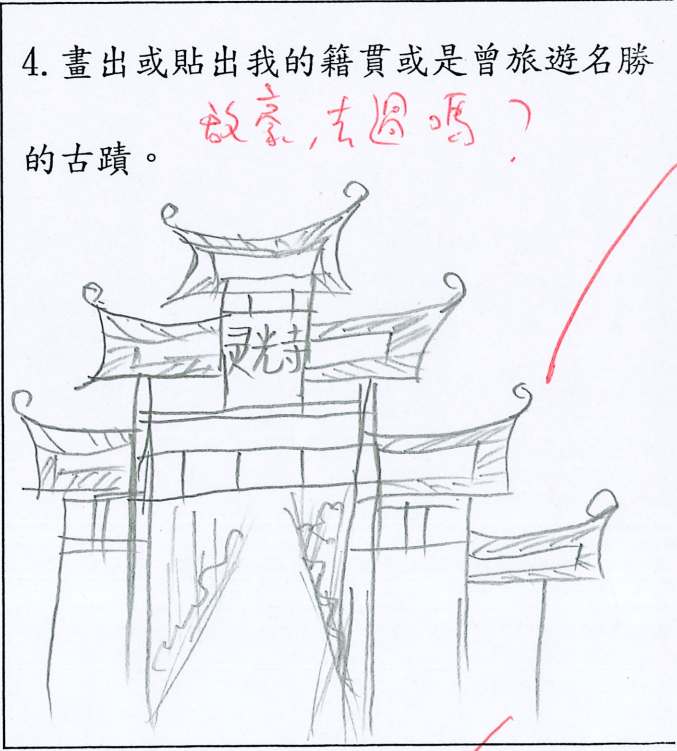
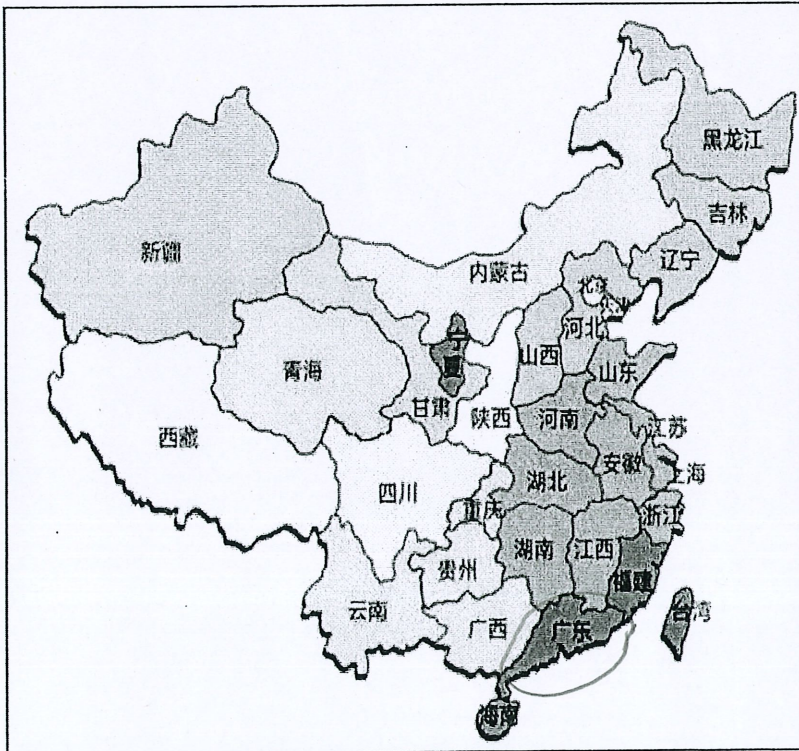
(籍貫指自己家族繁衍的地方 [來源: 維基百科]) 有趣小資料: 張淑婷老師籍貫是

深圳鹽田、文子峰老師籍貫是深圳福永, 林宇輝副校長籍貫是汕尾海豐。

2. 我的籍貫或是曾旅遊的名勝在中國的省份: 廣東省

3. 如果從香港出發, 簡述到達該處的方法及預計到達的時間。

從上水出發, 坐大巴到梅縣華僑大廈 (需時約 4.5小時)



5. 承上題, 利用文字簡單介紹上述的名勝古蹟。(點列形式)

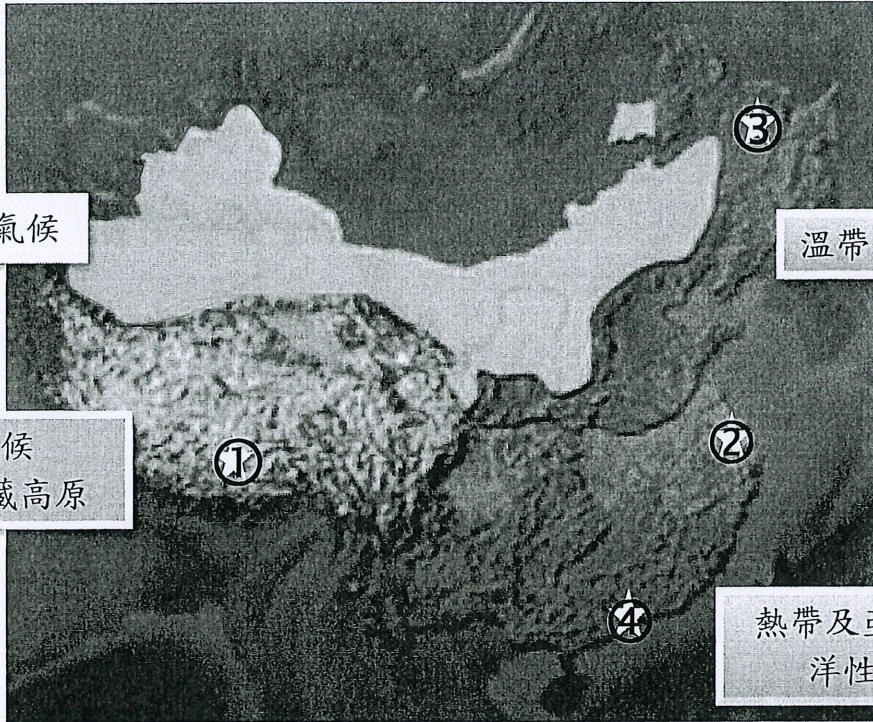
- ◆ 靈光寺 位於 廣東省梅州市梅縣雁洋鎮陰那山五指峰西麓半山
- ◆ 是廣東四大名剎之一。已有一千多年歷史。

姓名：徐梓萱

班別：5C (23)

成績：25/10/24

預習：中國國土寬闊，我們可從網上資源來認識拉薩、哈爾濱、上海及香港的四季特徵：



溫帶大陸性氣候

溫帶海洋性氣候

高原氣候
例如有青藏高原

熱帶及亞熱帶海
洋性氣候

一. 試根據課文或網上資料，寫出四個地方的氣溫、雨量及當地主要的糧食種類。

	①拉薩	②上海	③哈爾濱	④香港
1月時氣溫	-3.1 ✓	4.3 ✓	-17.6 ✓	16.3 ✓
7月時氣溫	14.0 ✓	28.2 ✓	23.1 ✓	28.8 ✓
全年平均降雨量(毫米)	556.3 ✓	1168.3 ✓	537.9 ✓	2398.5 ✓
當地主要的糧食種類	麵條 ✓	米飯 ✓	麵條 ✓	米飯 ✓

二. 除了香港之外，以上的拉薩、上海及哈爾濱三地皆有不同的氣候，哪一個地方你最想逗留一個月，去考察當地的風土人情及生活狀況？為甚麼？

上海, 因為上海的天氣沒有那麼冷。
也很乾淨~

姓名：傅文希

班別：5C

成績：

香港的經濟發展 (時間線)

早期

開埠初期

50-70 年代

80 年代後期

現在

行業：漁農業

有利條件：

1. 位置近海
2. 土地未作城市發展
3. 自給自足為主

行業：轉口貿易

有利條件：

1. 地理位置優越
2. 優良的港口
3. 大批內地勞工從中國內地遷來

行業：工業

有利條件：

1. 中國內戰 → 人力資源、資金和技術流入

行業：金融等服務性行業

有利條件：

1. 地理位置
2. 與中國內地的關係
3. «基本法»的保障
4. 運輸設施
5. 通訊設備

行業：創意科技產業和創意工業

有利條件：

1. 知識水平高
2. 文化交流
3. 輸入人才

轉變原因：

1. 英國把香港開放為自由港，船隻自由進出，不需繳稅。

轉變原因：

1. 韓戰爆發 → 對中國實施禁運，運輸、貿易公司倒閉。
2. 中國內戰 → 中國工業家、難民來港。

轉變原因：

1. 租金上升
2. 工資上升
3. 香港出口受到限制

轉變原因：

1. 全球發展 知識型經濟
2. 提高競爭力
3. 對資訊科技的重視

** 挑戰題：你認為香港的未來應該發展甚麼產業才能超越或趕上其他國家呢？請簡單說明原因。

我認為發展轉口貿易，因為香港三面朝海，方便世界各地的船隻來貿易。
 應該 要想方法吸引到更多商人投資~

粉嶺公立學校

2024-2025 年度 常識科 五年級 校本預習工作紙 (第五冊 第一課：中國的地理)

姓名：劉夢遠

班別：5C

成績：100



預習：

你認識你的故鄉嗎？試根據個人經驗、搜集資料或訪問父母，帶領老師進入你的尋根之路。

1. 我的籍貫或是一個曾旅遊的名勝：汕尾海豐

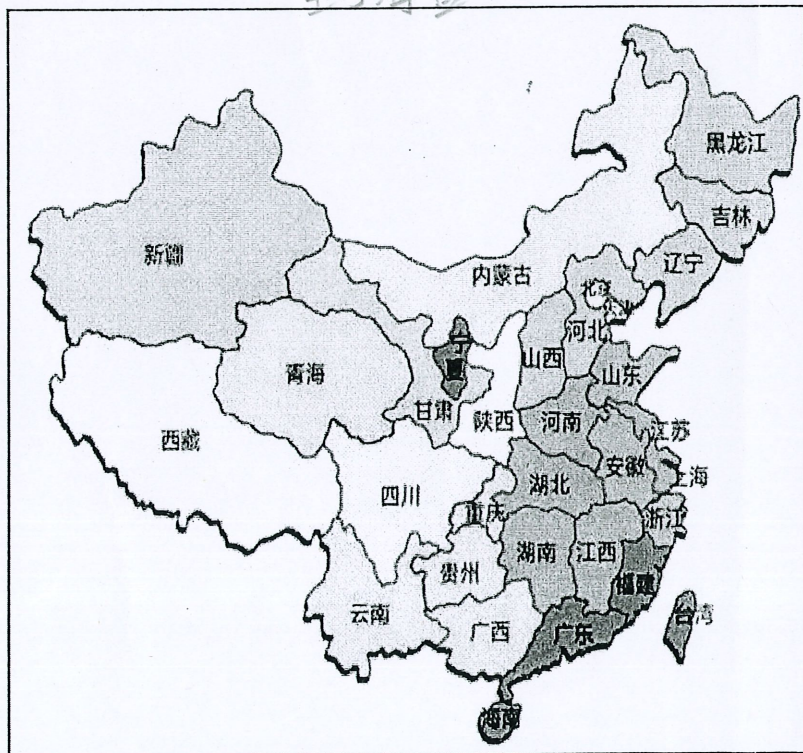
(籍貫指自己家族繁衍的地方[來源：維基百科]) 有趣小資料：張淑婷老師籍貫是

深圳鹽田、文子峰老師籍貫是深圳福永，林宇輝副校長籍貫是汕尾海豐。

2. 我的籍貫或是曾旅遊的名勝在中國的省份：廣東省

3. 如果從香港出發，簡述到達該處的方法及預計到達的時間。

香港上水到深圳北坐高鐵到汕尾再轉車 (需時約二小時)。
到海豐 此處坐大巴在深圳



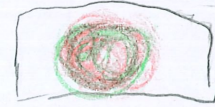
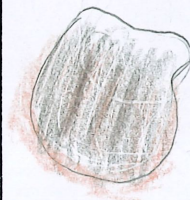
4. 畫出或貼出我的籍貫或是曾旅遊名勝的古蹟。

海豐特色小吃

小米

冬節鷓

菜粿



5. 承上題，利用文字簡單介紹上述的名勝古蹟。(點列形式)

◆ 好吃

◆ 是汕尾海豐特色的小吃
四三

此處吃過~你吃過嗎?



姓名: 譚馨菲 (25)

班別: 6A

成績: 97

▲為鞏固題，所有同學必須完成；◆為進階題，請同學盡力嘗試完成。

4/11

閱讀以下的時事新聞，並完成課業。

報章/媒體名稱：星島日報、明報、am730

剪報/紀錄日期：2024年10月30日

政府不鼓勵市民惡劣天氣下戶外活動 但不會考慮救援徵費

有市民喜歡在颱風襲港期間到海邊「追風」，又或在惡劣天氣下進行登山和衝浪等活動。政府指絕不鼓勵市民在惡劣天氣下進行戶外活動，但不會考慮向在相關情況下遇險的市民收取救援費用。

政府指，2020年1月1日至2024年9月30日期間，當黃色、紅色或黑色暴雨警告或者三號或以上熱帶氣旋警告生效時，在香港消防處、香港警務處和政府飛行服務隊曾出動處理的個案中，由遠足或露營等引致的攀山拯救個案有60宗，共動員649名人員；由游泳或滑浪等引致的遇溺事故有24宗，共出動509名人員。在惡劣天氣下進行救援的風險較平時大，幸而相關事故並未造成救援人員傷亡。

此外，現時法例賦予政府權力在有需要時封閉海灘，若有人未經許可進入該處即屬違法。政府表示，在過去3年，就有市民進入或意圖進入暫時封閉的泳灘進行水上活動，只會發出勸喻或口頭警告，並沒有人因涉及闖入封閉泳灘而被檢控。在泳灘懸掛紅旗而非封閉的情況下，則有一宗個案因於泳灘作非法水上活動而被成功檢控。

政府強調，保障市民的生命財產是政府首要考慮的事情，在接到緊急事故的召喚時，警務處和消防處均會即時評估事故性質並出動處理。政府絕不鼓勵市民在惡劣天氣下冒險進行戶外活動，以免危及自身和救援人員的安全，但也不會為了起阻嚇作用而向遇險求救的市民收取費用，窒礙他們使用緊急召喚服務。

一. ▲掌握新聞內容，根據新聞內容回答問題。

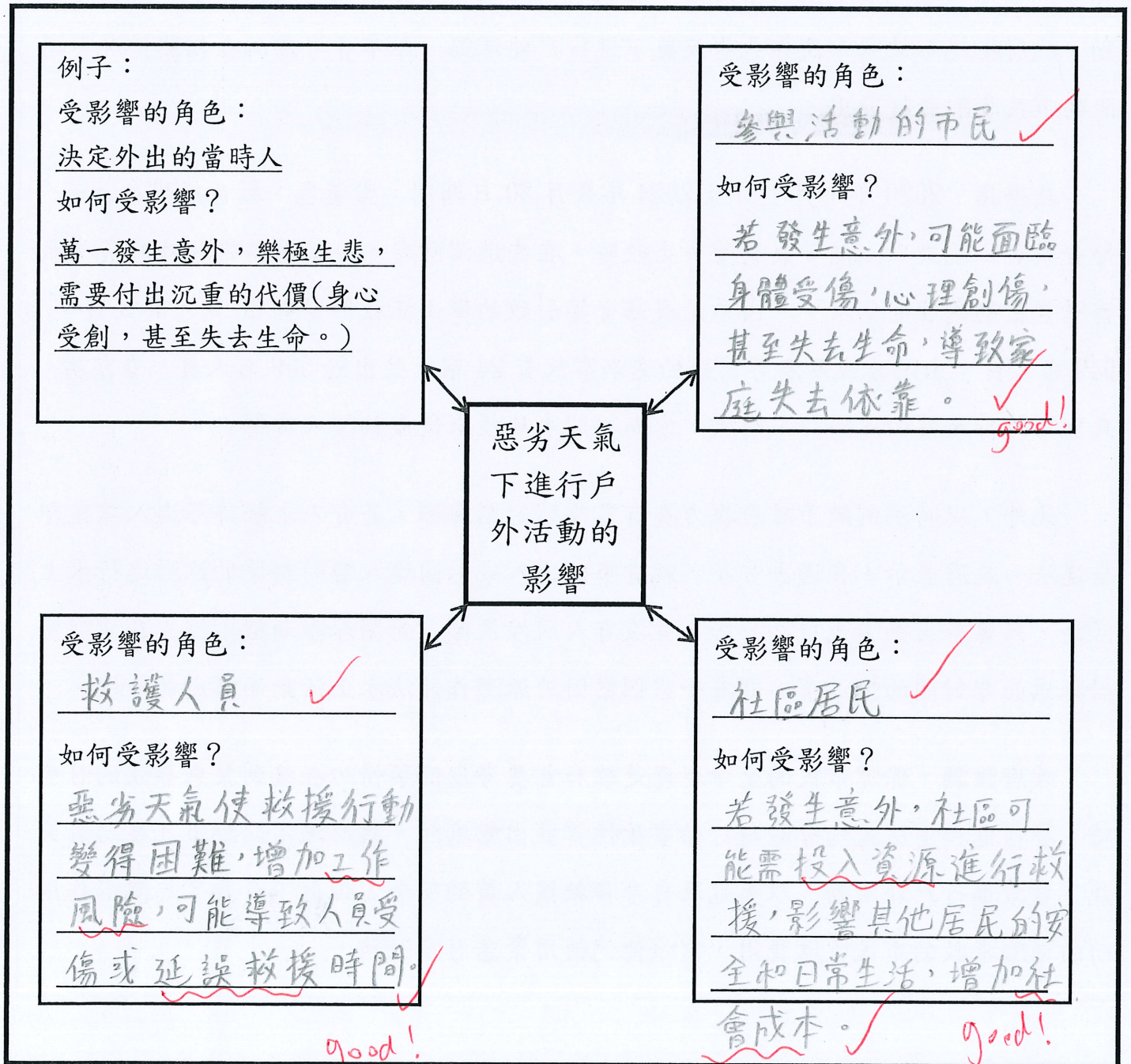
1. (為何) 為甚麼政府不考慮向遇險求救的市民收取救援費用?

政府不收救護費用是出於人道主義，社會責任，避免經濟障礙，鼓勵及時求救，確保所有人獲得平等幫助。

2. (如何) 如遇惡劣天氣，市民應該怎樣做以減低發生意外的風險?

惡劣天氣時，市民應留在室內，關閉窗戶，檢查應急物資。關注天氣預報，並避免駕駛和危險區域。

二. ◆多角度思考：如市民在惡劣天氣進行遠足、露營或水上活動等戶外活動，對不同的角色帶來甚麼影響?



欣賞你思考得十分仔細，也能多角度思考!

姓名: 譚馨霏 (25)

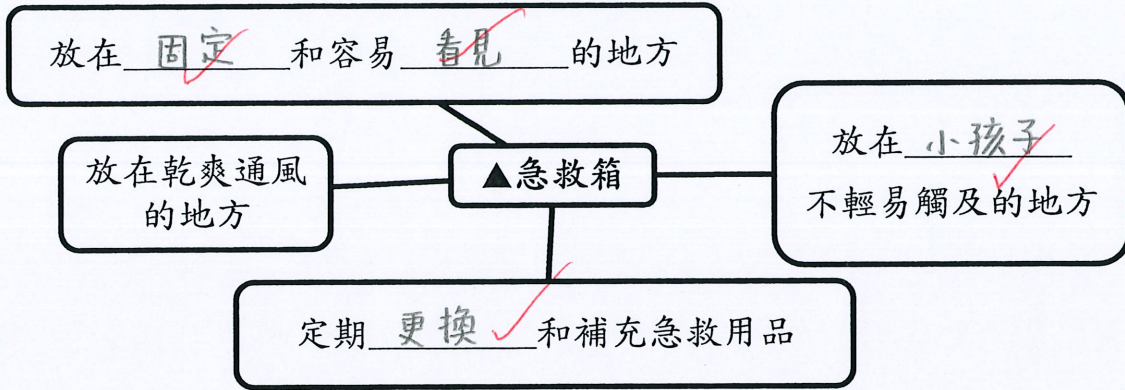
班別: 6A

分數: 25/25

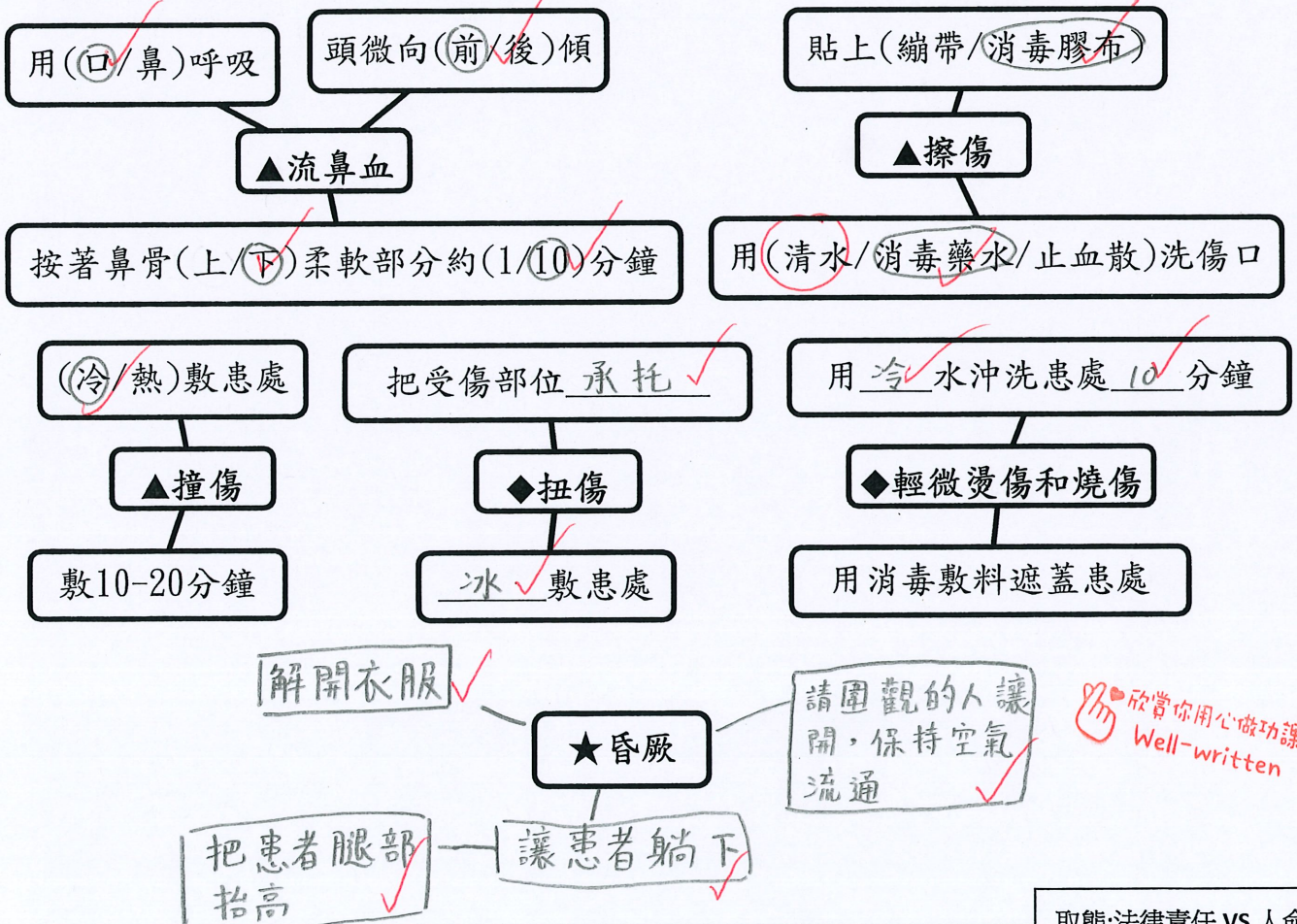
▲為鞏固題，所有同學必須完成；◆為進階題、★為挑戰題，請同學盡力嘗試完成。

一. 課堂筆記

1. 急救箱應該放哪裏?




2. 遇到以下意外時，應該怎樣處理?



取態:法律責任 VS 人命

二. ★挑戰題: 小明於數年前學過急救, 今天他在路上遇見一位老人家懷疑中暑感到頭暈, 他憑著僅有的記憶替該名老人家急救, 你認同他的做法嗎? 為甚麼?

(認同/不認同)。因為 如果他在急救過程中有可能有失誤的話, 可能會導致老人家死亡。



欣賞你用心做功課 Well-written

姓名: 李宇軒 (23)

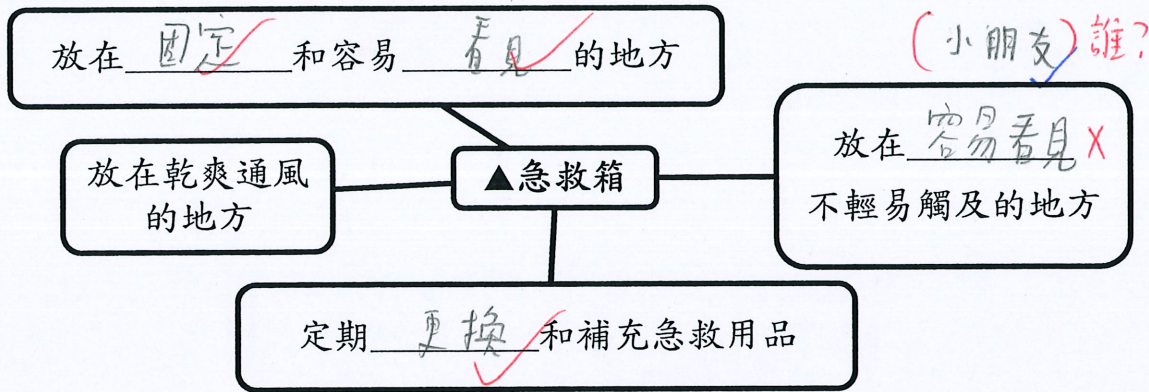
班別: GA

分數: 95/100

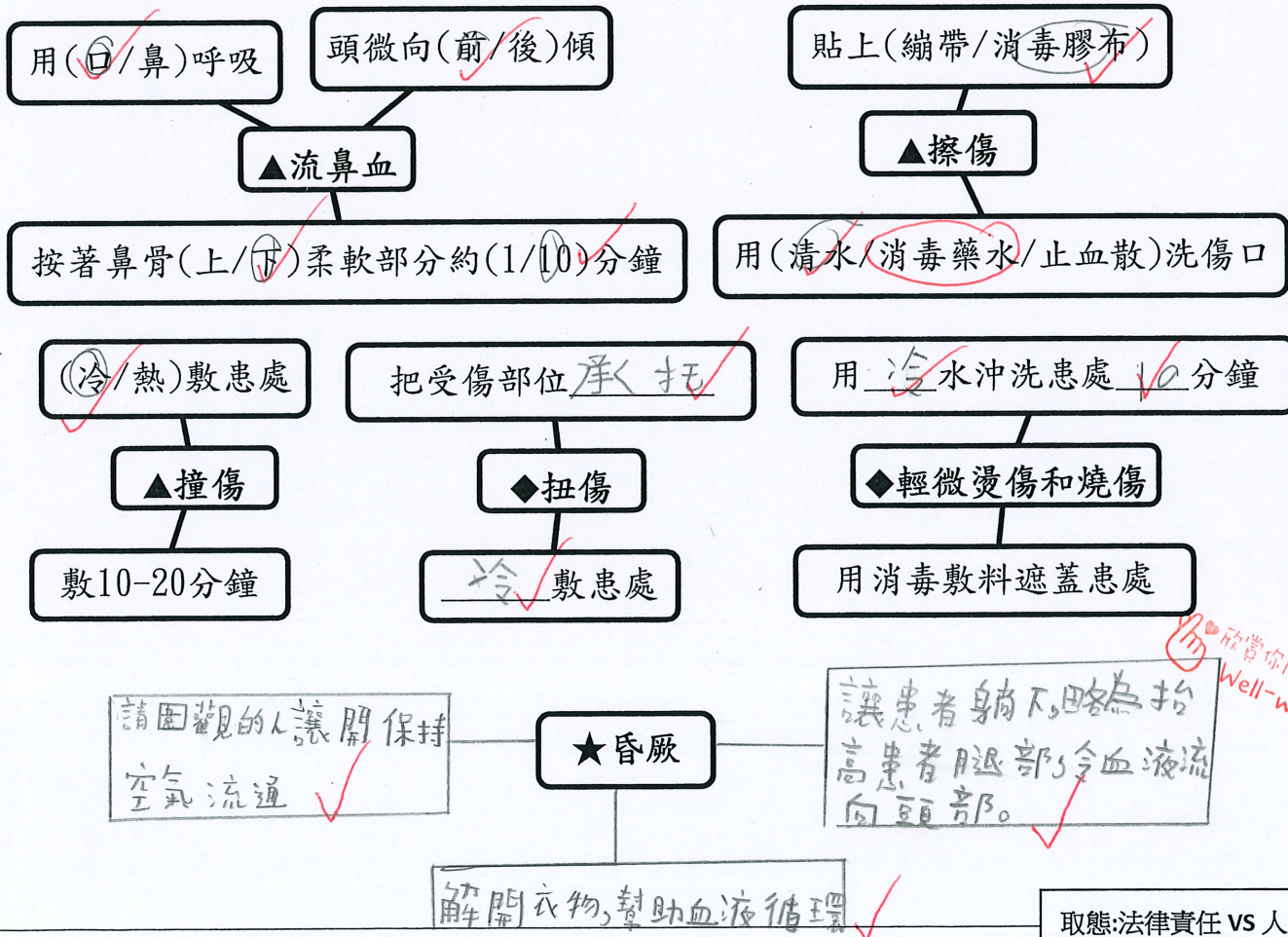
▲為鞏固題，所有同學必須完成；◆為進階題、★為挑戰題，請同學盡力嘗試完成。

一. 課堂筆記

1. 急救箱應該放哪裏?




2. 遇到以下意外時，應該怎樣處理?



二. ★挑戰題: 小明於數年前學過急救，今天他在路上遇見一位老人家懷疑中暑感到頭暈，他憑著僅有的記憶替該名老人家急救，你認同他的做法嗎？為甚麼？

(認同/不認同)。因為 只有一個答案 如果小明忘記了急救的方法，有機會老人家就中暑導致她死亡，到時候小明就會面對法律責任，但是如果小明見死不救也有罪，但是就算如果小明救好這位老人家，她也有可能會不並資對小明勒索醫藥費、屎心陰。



欣賞你用心做功課 Well-written

姓名: 易芷瑩

班別: 6B (23)

成績: _____



課堂筆記 - 清朝中期以後的國勢衰弱至滅亡

鴉片戰爭(1839-1842) (p. 5)

- 清政府派 林則徐 到 廣州 查禁鴉片，並在 虎門 銷毀大量鴉片。
- 英國 不滿鴉片被銷毀，於是爆發 鴉片戰爭。
- 清政府戰敗，須簽下不平等條約。

《南京條約》

- 把 香港島 給英國管治
- 向英國大額 賠款
- 開放 廣州、上海 等為通商口岸

中日甲午戰爭(1894-1895)

《馬關條約》 (p. 6)

- 把 遼東半島、台灣 及 澎湖列島 讓給 日本
- 向 日本 大額賠償
- 增加通商口岸

英法聯軍之役(1856-1860)

《北京條約》 (p. 6)

- 把 九龍半島 給英國管治
- 向 英國 和 法國 大額賠償
- 增加 天津 為通商口岸

八國聯軍之役(1900-1901)

《辛丑條約》 (p. 7)

- 向列強大額賠償 炮台
- 拆除部分 大沽口
- 容許聯軍在北京一帶 駐軍

辛亥革命(1911) (p. 8)

- 革命主要領導人 孫中山 成立 中國同盟會，讓有志救國的人士參加革命。
- 1911 年，武昌 起義成功，史稱「辛亥革命」。
- 1912 年，中華民國 成立，孫中山 被推舉為臨時大總統。